

제 4 교시

사 회

수험번호 ( )

성 명 ( )

※ 다음 물음에 대한 가장 옳은 답을 하나만 골라, OMR 답안지에 정확히 표기하시오.

1. 다음 내용과 관련 있는 문화권은?

- 대표적인 사상가는 공자, 맹자
- 인(仁)과 예(禮)를 중심으로 한 도덕 정치 주장

- ① 유교 문화권                      ② 불교 문화권
- ③ 이슬람 문화권                    ④ 크리스티교 문화권

2. 다음 내용과 공통적으로 관련 있는 것은?

- 영국의 권리 장전                      ○ 프랑스 인권 선언문
- 미국의 독립 선언문

- ① 산업 혁명                              ② 세계화 실현
- ③ 시민의 권리 신장                      ④ 권위주의적 정부 수립

3. 다음 내용과 관련 있는 것은?

- 국제 무역과 관련된 규범의 제정과 운영
- 회원들 간에 발생하는 무역 마찰 문제 해결
- 1995년에 출범하여 전 세계의 자유무역 실현

- ① 유럽연합(EU)
- ② 세계무역기구(WTO)
- ③ 북미자유무역협정(NAFTA)
- ④ 동남아시아국가연합(ASEAN)

4. 다음 내용과 관련 있는 선거 원칙은?

- 일정한 연령에 도달하면 누구에게나 선거권이 주어진다.
- 우리나라는 만 19세에 선거권이 주어진다.

- ① 보통선거    ② 간접선거    ③ 평등선거    ④ 직접선거

5. 사회적 쟁점을 해결하는 바람직한 방법이 아닌 것은?

- ① 다수결로 해결
- ② 권위주의적으로 해결
- ③ 정부의 중재 및 조정으로 해결
- ④ 당사자 간 대화와 타협으로 해결

6. 시민의 정치 참여 방법이 아닌 것은?

- ① 여론 형성                              ② 선거 및 투표
- ③ 국가 공권력 행사                      ④ 공청회 및 집회 참가

7. 다음과 같은 사회화를 담당하는 곳은?

- 인성 형성의 토대가 된다.
- 비공식적이며 1차적인 사회화가 이루어진다.

- ① 학교            ② 정당            ③ 가정            ④ 직장

8. 다음 내용과 관련 있는 문화의 개념은?

사회의 과학기술은 급격히 변화해 가는데 사람들의 의식이나 가치관 등은 이에 따르지 못하는 현상을 말한다.

- ① 문화지체    ② 문화융합    ③ 문화동화    ④ 문화충격

9. <보기>에서 문화의 보편성에 대한 설명으로 옳은 것은?

<보기>

- ㄱ. 인간은 대부분 집을 짓고 산다.
- ㄴ. 각국의 문화에는 공통의 성향이 있다.
- ㄷ. 자기문화가 가장 우수하다고 판단한다.
- ㄹ. 문화를 그 사회의 환경과 맥락에서 이해한다.

- ① ㄱ, ㄴ            ② ㄱ, ㄹ            ③ ㄴ, ㄷ            ④ ㄷ, ㄹ

10. 다음 내용과 관련 있는 경제 주체는?

- 민간 부문에서 이윤 극대화를 목적으로 한다.
- 생산요소를 구입하여 재화와 용역을 생산한다.

- ① 가계            ② 기업            ③ 정부            ④ 국제청

11. 국내 총생산(GDP)에 대한 설명으로 옳은 것은?

- ① 학생들의 봉사활동도 포함된다.
- ② 가정주부의 가사노동도 포함된다.
- ③ 국적이 같은 사람들이 생산한 값의 합이다.
- ④ 국내 최종 생산물의 가치를 모두 합한 것이다.

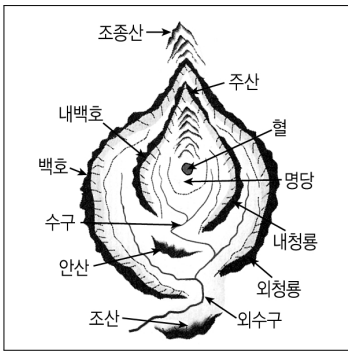
12. 물가 상승의 원인이 아닌 것은?

- ① 통화량이 증가하였다.            ② 초과공급이 발생하였다.
- ③ 총수요가 증가하였다.            ④ 국제수지 흑자가 지속되었다.

13. 시장의 가격 기능에 대한 설명으로 옳은 것은?

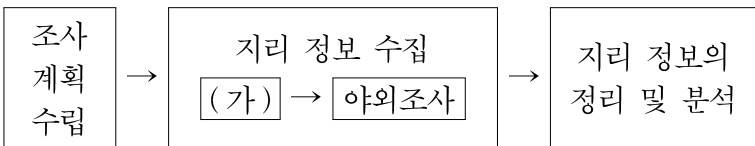
- ① 생산량이 많을수록 가격이 높다.
- ② 초과수요가 발생하면 가격이 하락한다.
- ③ 국내 가격이 상승하면 수출에 유리하다.
- ④ 수요량과 공급량이 만나는 점에서 균형가격이 형성된다.

14. 다음은 풍수지리설의 명당 체계도이다. 우리 조상들이 명당(배산임수)에 집터를 잡은 이유로 옳지 않은 것은?



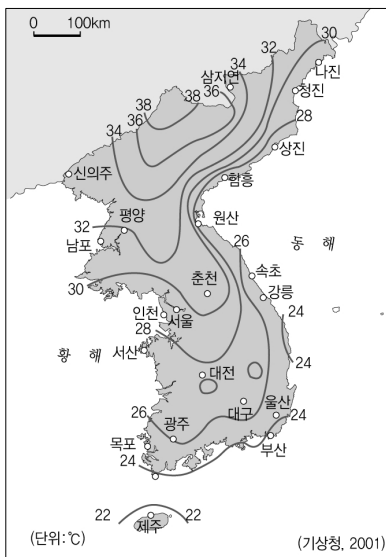
- ① 일조량 풍부
- ② 지하 자원 풍부
- ③ 한랭한 북서풍 차단
- ④ 농업 용수 확보 유리

15. 다음은 지리 조사 과정을 나타낸 것이다. (가)에 들어갈 활동으로 옳은 것은?



- ① 측량, 견학
- ② 조사 보고서 작성
- ③ 표, 그래프 작성
- ④ 문헌, 통계 자료 수집

16. 다음과 같은 통계 지도의 명칭은?



- ① 점 지도
- ② 등치선도
- ③ 단계 구분도
- ④ 도형 표현도

17. 다음 내용과 관련 있는 하천의 퇴적 지형은?

- 하천의 하구에 발달
- 낙동강 유역의 김해 평야
- 서해안은 큰 조차로 발달이 미약

- ① 삼각주
- ② 선상지
- ③ 범람원
- ④ 하안단구

18. 서해안과 비교할 때, 동해안의 두드러진 특징은?

- ① 다도해
- ② 갯벌 발달
- ③ 석호 발달
- ④ 리아스식 해안

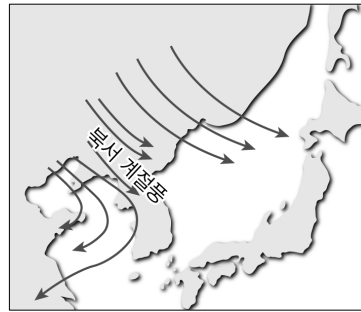
19. 다음 중 연 강수량이 가장 적은 곳은?

- ① 제주도
- ② 개마고원
- ③ 남해안 지방
- ④ 한강 중·상류

20. 우리나라의 기후 특색이 아닌 것은?

- ① 기온의 연교차가 크다.
- ② 해[年]에 따라 강수량의 변동이 크다.
- ③ 연 강수량의 50~60%가 여름에 집중된다.
- ④ 동 위도에서는 서해안의 1월 평균 기온이 동해안보다 높다.

21. 다음과 같은 계절풍이 나타나는 시기의 우리나라 전통 생활 양식으로 옳지 않은 것은?

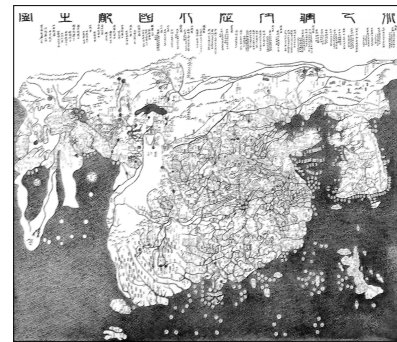


- ① 설피
- ② 온돌
- ③ 죽부인
- ④ 우데기

22. 기후적인 요인에 의해 발생하는 자연 재해가 아닌 것은?

- ① 홍수
- ② 가뭄
- ③ 지진
- ④ 태풍

23. 다음 지도의 특징으로 옳은 것은?



<혼일강리역대국도지도>

- ① 조선 초기에 제작된 세계지도이다.
- ② 김정호가 청구도를 보완하여 제작하였다.
- ③ 목판으로 제작되어 대량 인쇄가 가능하다.
- ④ 실학의 영향으로 실용적인 관점에서 제작되었다.

24. 도심 지역의 특징으로 옳지 않은 것은?

- ① 땅값이 비싸다.
- ② 접근성이 좋다.
- ③ 중심 업무 지구를 이룬다.
- ④ 인구 밀도는 주간보다 야간이 높다.

25. 지구 온난화가 환경에 영향을 준 사례로 옳지 않은 것은?

- ① 북반구에서는 작물 재배의 북한계선이 북상하고 있다.
- ② 대관령 일대의 고랭지 채소 재배 면적이 감소하고 있다.
- ③ 해수면 상승으로 해안 저지대의 침수 피해가 나타나고 있다.
- ④ 우리나라 근해에서는 한류성 어종의 어획량이 증가하고 있다.

※ 확인사항  
답을 OMR 카드의 해당란에 정확히 표기하였는가?