

제 4 교시 사회

수험번호 () 성명 ()

※ 다음 물음에 대한 가장 옳은 답을 하나만 골라, OMR 답안지에 정확히 표기하시오.

1. 다음 내용과 관련 있는 문화권은?

- 만민평등과 유일신 신앙으로 사회 통합 달성
- 생활 규범과 법질서의 토대로 쿠란이 보편화

- ① 불교 문화권 ② 힌두교 문화권
- ③ 이슬람교 문화권 ④ 크리스티교 문화권

2. 신항로 개척이 유럽사회에 미친 영향으로 옳지 않은 것은?

- ① 가격혁명 발생 ② 상업혁명 발생
- ③ 식민지 확보 경쟁 ④ 수정 자본주의 등장

3. 다음 자료와 관련된 혁명의 배경으로 옳지 않은 것은?

제2조 모든 정치적 결합의 목적은 자유, 재산, 안전 및 압제에 대한 저항권을 보존하는 데 있다.
- 「프랑스 인권 선언문」 -

- ① 시민 계급의 성장 ② 계몽 사상의 확산
- ③ 사회 계약설의 수용 ④ 경제 대공황의 발생

4. 다음 사건들에서 시민들이 요구한 기본권은?

- 영국에서는 의원에 대한 세비 지급, 성년 남자의 보통 선거권 등을 요구하는 차티스트 운동이 있었다.
- 1948년 2월 파리의 학생과 노동자들은 왕과 내각의 실정을 비난하고 선거권 확대를 요구하는 시위를 벌였다.

- ① 자유권 ② 참정권 ③ 청구권 ④ 사회권

5. 법의 순기능을 <보기>에서 고른 것은?

<보기>

- ㄱ. 사회 질서 유지 ㄴ. 사회 정의 실현
- ㄷ. 시민의 기본권 탄압 ㄹ. 특권 집단의 권익 보호

- ① ㄱ, ㄴ ② ㄱ, ㄹ ③ ㄴ, ㄷ ④ ㄷ, ㄹ

6. 다음과 같은 역할을 하는 정치 참여 주체는?

이익 추구나 정권 획득보다 공익이 침해되지 않도록 감시하며, 서명 운동 및 시위 참여 등의 활동을 한다.

- ① 정당 ② 정부 ③ 이익단체 ④ 시민단체

7. 다음에 해당하는 사회적 쟁점의 해결 절차는?

다양한 해결 방안을 찾아보고, 그 결과를 예상하는 단계

- ① 문제 인식 ② 개념과 용어의 명확화
- ③ 대안 모색과 결과 예측 ④ 지식 탐구와 가치 탐구

8. 다음과 같은 상황에서 자산 가치의 하락이 발생한 사람을 <보기>에서 고른 것은?

모든 재화 및 서비스에서 동일한 비율의 인플레이션 발생

<보기>

- ㄱ. 현금을 가진 자본가 ㄴ. 물품을 가진 상인
- ㄷ. 부동산을 가진 투자자 ㄹ. 급여로 생활하는 근로자

- ① ㄱ, ㄴ ② ㄱ, ㄹ ③ ㄴ, ㄷ ④ ㄷ, ㄹ

9. 다음에 나타난 환율변동의 영향으로 옳은 것은?

1달러 = 1,100원 ⇨ 1달러 = 1,500원

- ① 석유 수입 가격 하락 ② 외채 상환 부담 증가
- ③ 국내 제품 수출 감소 ④ 개인의 해외여행 비용 감소

10. 다음과 관련된 문화의 개념은?

휴대전화의 보급은 급속도로 이루어졌으나 장소나 상황에 맞는 통신예절의 정착은 이루어지지 못했다.

- ① 문화 지체 ② 문화 융합 ③ 문화 충격 ④ 문화 동화

11. 1990년대 이후 우리나라 경제 성장의 특징으로 옳은 것은?

- ① 지식 기반 산업 발달 ② 정부 주도의 수출 지향
- ③ 노동 집약적 경공업 중심 ④ 중화학 공업의 기반 조성

12. 다음 사례에 나타난 문화 이해의 태도는?

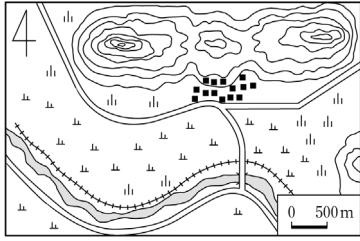
미국의 선교사들은 인디언들의 풍속과 종교를 사악한 것이라 하여 무시하며, 자신들의 문화를 우수하다고 생각했다.

- ① 문화 상대주의 ② 문화 상대주의
- ③ 자문화 중심주의 ④ 극단적 문화 상대주의

13. 사회적 쟁점의 민주적 해결을 위한 요소로 옳지 않은 것은?

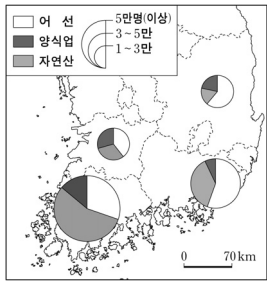
- ① 공동체 의식 ② 합법적인 절차
- ③ 사회 정의의 원칙 ④ 지역 이기주의적 태도

14. 지도에 대한 설명으로 옳지 않은 것은?



- ① 촌락의 위치는 배산임수이다.
- ② 인구가 많이 밀집된 도시지역이다.
- ③ 산지는 대부분 북쪽에 위치해 있다.
- ④ 토지는 주로 논과 밭으로 이용된다.

15. 다음과 같은 통계지도는?



- ① 유선도
- ② 점지도
- ③ 도형표현도
- ④ 단계구분도

16. 우리나라의 하천에 대한 설명으로 옳은 것은?

- ① 계절에 따라 유량 변동이 심하다.
- ② 한강 하구에는 삼각주가 발달해 있다.
- ③ 큰 하천은 대부분 동해로 흘러들어 간다.
- ④ 하천 상류지역에서는 퇴적작용이 활발하다.

17. 다음 밑줄 친 내용과 관련 있는 지형은?

철원은 비록 그러나 들 가운데 물이 깊고 벌레 먹은 듯한 검은 돌이 있는데 이상스럽다.

- 이중환, 「택리지」 -

- ① 빙하지형 ② 화산지형 ③ 침식지형 ④ 퇴적지형

18. 우리나라의 서·남해안에 대한 설명으로 옳은 것은?

- ① 조석 간만의 차가 작다.
- ② 갯벌의 발달이 미약하다.
- ③ 해안단구가 잘 발달되어 있다.
- ④ 양식업이 활발하게 이루어지고 있다.

19. 다음 내용에 해당하는 기후는?

- 연중 기온이 높고 강수량이 풍부하다.
- 콩고 분지, 인도네시아, 아마존 강 유역에서 나타난다.

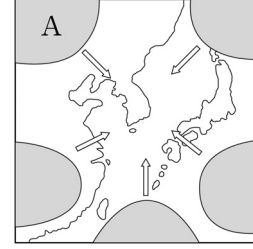
- ① 열대기후 ② 온대기후 ③ 냉대기후 ④ 건조기후

20. 다음 내용과 가장 관련이 깊은 환경 문제는?

- 오랜 가뭄과 과도한 가축의 방목이 원인이다.
- 아프리카의 사헬 지대가 대표적인 피해지역이다.

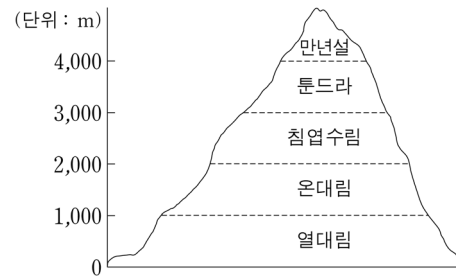
- ① 사막화 ② 스모그 ③ 부영양화 ④ 적조현상

21. 지도의 A 기단이 우리나라에 미치는 영향은?



- ① 무더위와 열대야가 나타난다.
- ② 집중호우로 홍수 피해를 일으킨다.
- ③ 북서계절풍이 불어와 강추위가 나타난다.
- ④ 영서 지방에 부는 늦새바람의 원인이 된다.

22. 그림과 같이 식생의 분포가 달라지는 가장 큰 원인은?

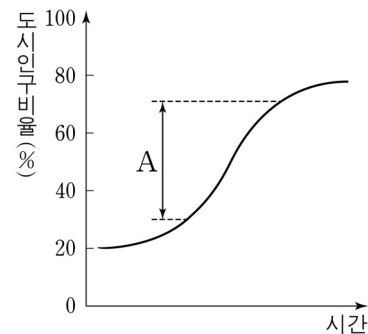


- ① 위도
- ② 바람
- ③ 수륙분포
- ④ 해발고도

23. 대관령 일대의 고위평탄면에서 고랭지 농업이 발달하게 된 배경이 아닌 것은?

- ① 범람원의 발달로 토양이 비옥하다.
- ② 저지대에 비해 여름철 기후가 서늘하다.
- ③ 해발고도는 높지만 경사가 비교적 완만하다.
- ④ 교통의 발달로 시장과의 접근성이 향상되었다.

24. 다음은 도시화 곡선을 나타낸 그래프이다. A 단계에 대한 설명으로 옳은 것은?



- ① 도시화의 종착 단계이다.
- ② 이촌향도 현상이 나타난다.
- ③ 농업 중심의 전통사회이다.
- ④ 도시 인구 비율이 감소한다.

25. 지역 개발 방식 중 <보기>에서 균형 개발 방식의 특징만을 고른 것은?

<보기>

- ㄱ. 성장 거점 지역을 선정하여 집중 투자
- ㄴ. 효율성보다 형평성을 중요시 하는 개발
- ㄷ. 낙후 지역에 우선 투자하여 지역 격차 해소
- ㄹ. 경제 발전 단계가 낮은 국가에서 주로 실시

- ① ㄱ, ㄴ ② ㄱ, ㄷ ③ ㄴ, ㄷ ④ ㄷ, ㄹ

※ 확인사항

답을 OMR 카드의 해당란에 정확히 표기하였는가?