

# 제 4 교시 사회

수험번호 ( ) 성명 ( )

※ 다음 물음에 대한 가장 옳은 답을 하나만 골라, OMR 답안지에 정확히 표기하시오.

1. 다음에서 설명하는 것은?

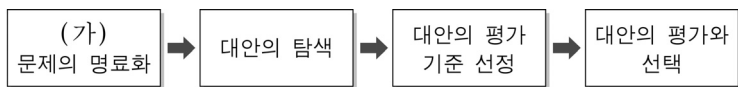
새로운 문화 요소가 등장하거나 다른 문화와 접촉하면서 기존 문화의 특성이 변화하는 것

- ① 문화 정체    ② 문화 단절    ③ 문화 변동    ④ 문화 장벽

2. 정보화 사회에 대한 설명으로 거리가 가장 먼 것은?

- ① 전통적인 권위주의 문화로 대체되었다.
- ② 이전에 비해 다양한 정보를 얻기가 쉬워졌다.
- ③ 정보의 유출로 사회적 문제가 발생하기도 한다.
- ④ 정보의 자산 가치 중요성에 대한 인식이 확대되었다.

3. 다음은 사회적 쟁점의 해결 절차를 나타낸 것이다. (가) 단계에서 해야 할 일로 가장 적절한 것은?



- ① 실천 가능한 모든 해결 방안을 찾아 본다.
- ② 문제의 내용이 무엇인지 뚜렷하게 밝힌다.
- ③ 해결 방안의 적절성을 판단할 수 있는 기준을 세운다.
- ④ 해결 방안별로 장단점을 비교하여 가장 좋은 것을 선정한다.

4. 다음 중 문화 상대주의의 관점을 갖고 있는 사람은?

- ① 갑: 선진국의 대중문화가 항상 최고라고 생각해.
- ② 을: 혐오하는 음식이 나라마다 다른 것은 당연해.
- ③ 병: 한민족의 문화가 세계에서 으뜸이라고 생각해.
- ④ 정: 옷을 입지 않고 생활하는 민족은 미개한 민족이야.

5. 다음 중 우리나라의 국내 총생산(GDP)에 포함되는 것은?

- ① 연예인들의 국군 장병 무료 위문공연
- ② 국내 기업에 종사하는 노동자의 연봉
- ③ 주부가 가사 노동을 하면서 얻은 행복감
- ④ 학생들이 사회봉사 활동을 통해 얻은 경험

6. 다음 상황에서 경기 부양을 위한 정부의 대책으로 가장 적절한 것은?

최근 민간 소비가 위축되어 기업들의 판매 실적이 매우 낮아졌다.

- ① 세금 인상                      ② 저축 장려
- ③ 금리 인상                      ④ 정부 지출 확대

7. 다음 사례에 해당하는 실업 유형은?

인터넷 직거래가 활발해지면서 영업 사원이 실직하였다.

- ① 계절적 실업                      ② 구조적 실업
- ③ 마찰적 실업                      ④ 자발적 실업

8. 다음 상황에서 상대적으로 많은 이익을 얻은 사람은?

통화량의 급속한 증가로 1년 사이에 물가가 5배 상승

- ① 봉급 생활자                      ② 매달 기부하는 사람
- ③ 퇴직 연금 수령자                ④ 실물 자산을 가진 사람

9. 다음에서 설명하는 경제 개념은?

어떤 재화가 생산비나 생산량에서 다른 나라보다 상대적으로 유리한 위치에 있는 것을 말한다.

- ① 보호 무역    ② 공정 무역    ③ 비교 우위    ④ 절대 우위

10. 다음에서 설명하는 정치 문화의 유형은?

- 시민들이 자발적으로 만들어 가는 정치 문화
- 시민들이 자신의 의견을 공청회 등을 통해 자유롭게 전달

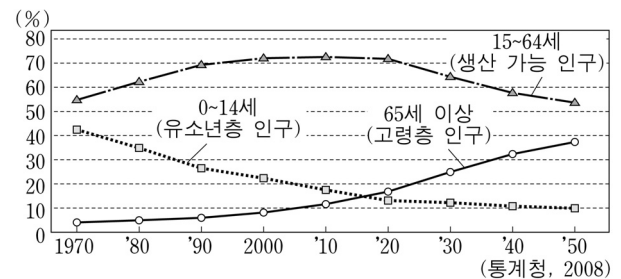
- ① 권위형    ② 향리형    ③ 신민형    ④ 참여형

11. 다음에서 설명하는 것은?

- 정권 획득을 목적으로 함.
- 정부 정책을 지지 또는 반대하면서 정치를 이끄는 역할

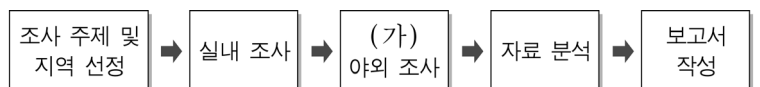
- ① 정당    ② 법원    ③ 언론 기관    ④ 시민 단체

12. 그래프를 통해 알 수 없는 것은?



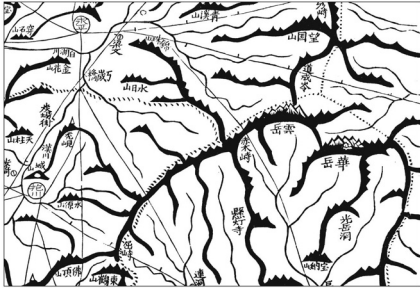
- ① 고령층 인구 비율이 증가하고 있다.
- ② 유소년층 인구 비율이 감소하고 있다.
- ③ 인구 분포의 지역적 불균형이 해소되었다.
- ④ 생산 가능 인구 비율은 2020년 이후 감소한다.

13. 지리 조사 방법에서 (가) 단계에 적합한 활동은?



- ① 설문지 작성                      ② 문헌 자료 수집
- ③ 통계 지도 작성                    ④ 답사 및 사진 촬영

14. 지도에 대한 설명으로 옳은 것은?



<대동여지도>

- ① 조선 후기에 김정호가 제작하였다.
- ② 산의 정확한 높이가 표시되어 있다.
- ③ 동양에서 가장 오래된 세계 지도이다.
- ④ 중국 중심의 세계관이 반영되어 있다.

15. 진달래의 첫 개화일을 통계 지도로 나타낼 때 가장 적절한 것은?

지역	□□지역	○○지역	...	▽▽지역	△△지역
개화일	3월 31일	4월 7일	...	4월 11일	4월 13일

- ① 유선도    ② 점묘도    ③ 등치선도    ④ 단계 구분도

16. 다음 <조건>을 만족하는 입지 선정으로 가장 적절한 곳은?

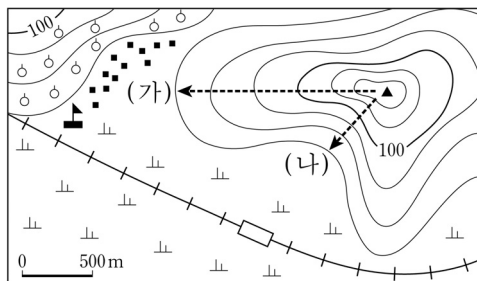
<조건>  
경사도는 5°~10°이고, 남향으로 일조량이 풍부한 곳

경사도				일조량				입지 선정			
○	◆	◆	◆	★	★	△	★	ㄱ			
◆	◆	○	○	★	★	△	△		ㄴ		
◆	○	◆	◆	△	△	★	★				ㄷ
◆	○	◆	◆	★	△	△	△		ㄹ		

경사 0°~5°: ◆    남향: ★  
경사 5°~10°: ○    북향: △

- ① ㄱ    ② ㄴ    ③ ㄷ    ④ ㄹ

17. 지도를 바르게 읽은 것은?



- ① 축척이 1:25,000인 지형도이다.
- ② (가)는 (나)보다 경사가 완만하다.
- ③ 마을의 남쪽에 고속도로가 지나간다.
- ④ 경지는 주로 밭과 과수원으로 이용된다.

18. 다음에서 설명하는 지형은?

- 오염 물질을 정화하는 기능이 있다.
- 썰물 때는 드러나지만, 밀물 때는 물에 잠긴다.
- 최근에는 생태 학습장이나 관광지로도 이용된다.

- ① 갯벌    ② 침식 분지    ③ 해안 단구    ④ 고위 평탄면

19. 기후 요소에 해당하는 것을 <보기>에서 고른 것은?

<보기>  
ㄱ. 기온    ㄴ. 지형    ㄷ. 강수    ㄹ. 해발 고도

- ① ㄱ, ㄴ    ② ㄱ, ㄷ    ③ ㄴ, ㄷ    ④ ㄷ, ㄹ

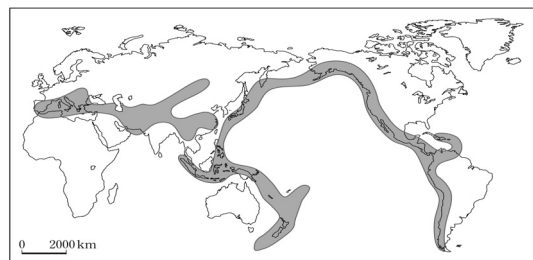
20. 성장 거점 개발 방식에 대한 설명으로 적절하지 않은 것은?

- ① 효율성 극대화가 목표이다.
- ② 주로 개발도상국에서 실시한다.
- ③ 중앙 정부에 의한 하향식 개발 방식이다.
- ④ 낙후 지역을 우선 개발하여 지역 격차를 해소한다.

21. 하천에 의한 퇴적 지형이 아닌 것은?

- ① 범람원    ② 선상지    ③ 삼각주    ④ 파식대

22. 지도에 표시된 지역에서 자주 발생하는 자연재해는?



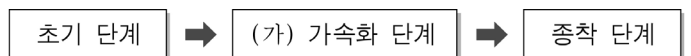
- ① 폭설    ② 가뭄    ③ 지진    ④ 태풍

23. 다음에 해당하는 공업의 입지 유형은?

- 제품의 변질이 우려되는 공업
- 소비자와 잦은 접촉이 필요한 공업
- 식료품 공업, 인쇄 공업 등이 대표적임.

- ① 원료 지향성    ② 동력 지향성
- ③ 시장 지향성    ④ 적환지 지향성

24. 도시화 과정 중 (가) 단계의 특징을 <보기>에서 고른 것은?



<보기>

- ㄱ. 산업화가 빠르게 진행된다.
- ㄴ. 이촌향도 현상이 나타난다.
- ㄷ. 대부분의 인구가 촌락에 거주한다.
- ㄹ. 도시에서 농촌으로의 인구 이동이 매우 활발하다.

- ① ㄱ, ㄴ    ② ㄱ, ㄷ    ③ ㄴ, ㄷ    ④ ㄷ, ㄹ

25. 다음에서 설명하는 환경 문제는?

- 봄철에 중국의 사막에서 발생한 흙먼지가 편서풍에 의해 우리나라로 이동하는 현상
- 호흡기 질환 및 정밀 기계 공업 등에 영향을 미침.

- ① 황사    ② 산성비
- ③ 오존층 파괴    ④ 지하수 고갈

※ 확인사항

답을 OMR 카드의 해당란에 정확히 표기하였는가?