

제 ③ 교시

실과

수험번호 ()

성명 ()

※ 다음 물음에 대한 가장 옳은 답을 하나만 골라 정확히 표기하시오.

1. 다음 중 열매채소는?

- ① 상추 ② 고추 ③ 당근 ④ 배추

2. 다음과 같은 준비물로 기르는 애완동물은?

어항, 수초, 모래, 산소 발생기, 깨끗한 물

- ① 토끼 ② 잉꼬 ③ 금붕어 ④ 강아지

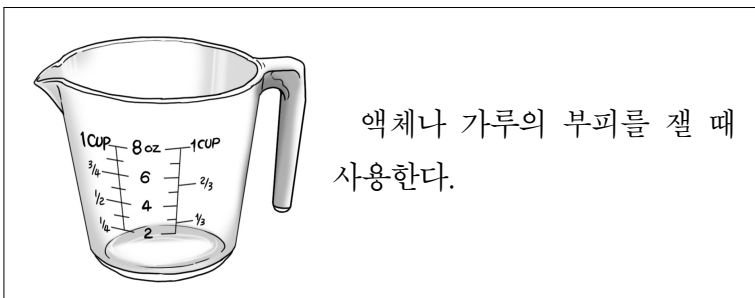
3. 천연섬유의 원료를 <보기>에서 고른 것은?

<보기>

ㄱ. 석탄 ㄴ. 양털 ㄷ. 석유 ㄹ. 누에고치

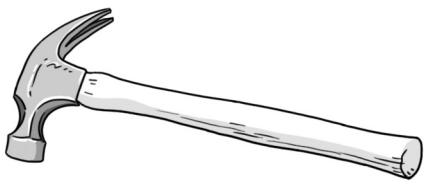
- ① ㄱ, ㄴ ② ㄱ, ㄷ ③ ㄴ, ㄷ ④ ㄴ, ㄹ

4. 다음에 해당하는 조리 기구는?



- ① 도마 ② 계량컵
- ③ 수세미 ④ 프라이팬

5. 그림에 해당하는, 못을 박거나 뿔 때 사용하는 공구는?



- ① 곱자 ② 대패 ③ 장도리 ④ 드라이버

6. 다음과 같은 방법으로 작성하는 것은?

- 날짜별로 작성한다.
- 수입과 지출의 내용 및 액수를 적는다.
- 수입 금액과 지출 금액을 계산하여 잔액을 적는다.

날짜	내용	수입	지출	잔액
5/25	용돈	4,000		4,000
	음료수		1,000	3,000
5/27	공책		1,000	2,000

- ① 원고지 ② 사진첩
- ③ 용돈 기입장 ④ 식물 관찰기록장

7. 다음과 같은 방법으로 절약할 수 있는 생활 자원은?

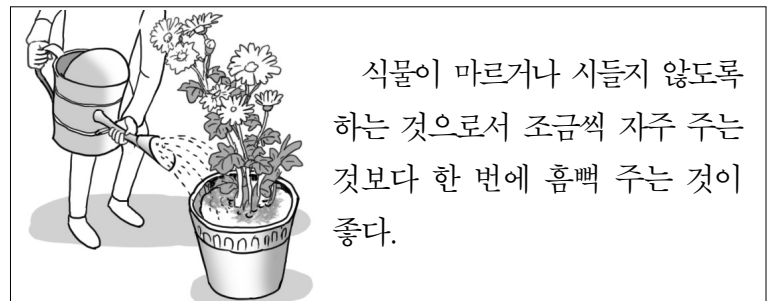
- 컴퓨터 사용 후 전원을 끈다.
- 사용하지 않는 플러그를 뽑는다.

- ① 물 ② 흙 ③ 나무 ④ 전기

8. 두 장의 천을 겹쳐 바느질할 때, 천이 밀리는 것을 방지하기 위해 사용하는 것은?

- ① 자 ② 단추 ③ 초크 ④ 시침핀

9. 다음 설명에 해당하는 식물 관리 방법은?



- ① 물 주기 ② 풀 뽑기
- ③ 가지치기 ④ 거름주기

10. 다음 중 잎이 크고 넓은 활엽수는?

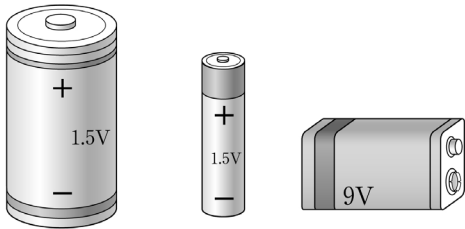
- ① 소나무 ② 전나무 ③ 잣나무 ④ 오동나무

11. (가)와 (나)에 해당하는 직업으로 알맞게 짝지은 것은?

(가) 법원에서 재판을 하고 판결을 내린다.
(나) 병원에서 환자를 진찰하고 처방을 내린다.

- | | (가) | (나) |
|---|------|-------|
| ① | 판사 | 의사 |
| ② | 교사 | 가수 |
| ③ | 요리사 | 경호원 |
| ④ | 디자이너 | 운동 선수 |

12. 전기를 공급하는 전자 부품 중 그림과 같은 것은?



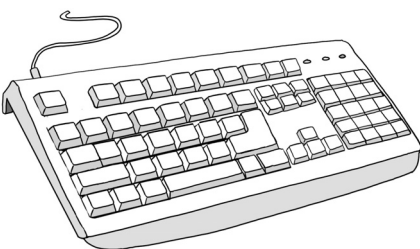
- ① 고무줄 ② 건전지 ③ 스피커 ④ 용수철

13. 목제품 만들기 과정 중 다음에 해당하는 것은?

○ 곱자나 자를 이용하여 목재에 마름선을 긋는다.
○ 톱을 사용하여 목재를 자른다.

- ① 조립하기 ② 마름질하기
③ 구상도 그리기 ④ 페인트 칠하기

14. 그림에 해당하는 컴퓨터의 입력 장치는?



- ① 키보드 ② 마우스
③ 프린터 ④ 하드 디스크

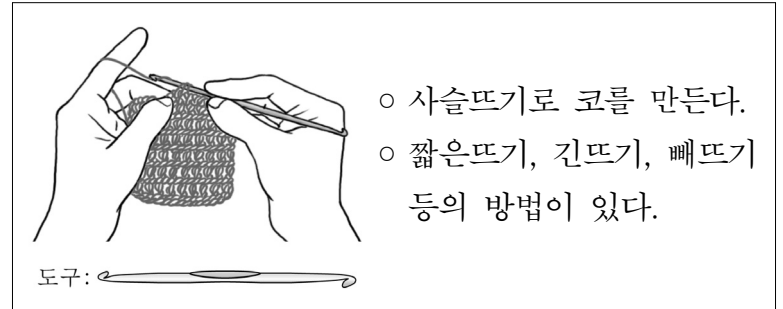
15. 나뭇가지에서 꽃이 피는 식물은?

- ① 목련 ② 튜립 ③ 채송화 ④ 봉선화

16. 다음 중 곡류에 해당하는 식품은?

- ① 꿀 ② 갈치 ③ 우유 ④ 보리밥

17. 다음과 같은 생활용품 제작 방법은?



○ 사슬뜨기로 코를 만든다.
○ 짧은뜨기, 긴뜨기, 빼뜨기 등의 방법이 있다.

- ① 십자수 ② 스킨자수
③ 코바늘뜨기 ④ 재봉틀 바느질

18. 다음에서 설명하는 음식은?

○ 빵과 빵 사이에 재료를 넣어 만든다.
○ 햄, 치즈, 토마토, 양상추 등의 재료를 사용한다.

- ① 잡채 ② 탕수육
③ 김치찌개 ④ 샌드위치

19. 다음 재활용 수거함에 넣어야 하는 것은?



- ① 유리잔 ② 페트병
③ 신문지 ④ 음료수 캔

20. 경제 동물과 그 동물에서 얻을 수 있는 것을 잘못 짝지은 것은?

- ① 토끼 - 알 ② 오리 - 고기
③ 돼지 - 고기 ④ 젖소 - 우유