

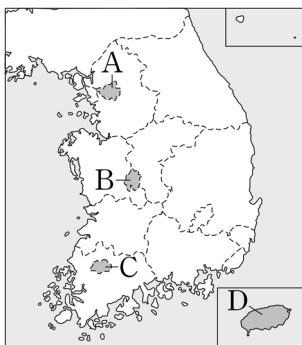
# 제 ④ 교시 사회

수험번호 ( ) 성명 ( )

※ 다음 물음에 대한 가장 옳은 답을 하나만 골라, OMR 답안지에 정확히 표기하시오.

1. 다음 설명에 해당하는 지역은?

- 화산 지형, 독특한 풍속 등을 이용한 관광 산업 발달
- 2006년 특별자치도로 출범



- ① A
- ② B
- ③ C
- ④ D

2. 지도에 대한 설명으로 옳지 않은 것은?

- ① 지표면의 지리적 현상을 약속된 기호로 나타낸다.
- ② 방위 표시가 없을 때 지도의 아래쪽을 북쪽으로 한다.
- ③ 지표의 높낮이는 등고선, 색깔 등을 이용하여 나타낸다.
- ④ 축척을 이용하여 실제 거리를 일정 비율로 줄여 나타낸다.

3. 다음에서 설명하는 것은?

- 중심 도시의 주거·공업·행정 기능의 일부를 분담
- 서울 주변의 성남, 안산 등이 해당

- ① 광업도시    ② 위성도시    ③ 국제도시    ④ 세계도시

4. ㉠과 ㉡에 들어갈 말을 알맞게 짝 지은 것은?

( ㉠ )은 늦봄에서 초여름 사이에 영동 지방에서 태백 산맥을 넘어 영서 지방으로 부는 바람이다. 이 바람이 오랫동안 지속되면 영서 지방은 ( ㉡ )의 피해를 입는다.

- |        |    |        |    |
|--------|----|--------|----|
| ㉠      | ㉡  | ㉠      | ㉡  |
| ① 편서풍  | 홍수 | ② 편서풍  | 가뭄 |
| ③ 늦새바람 | 홍수 | ④ 늦새바람 | 가뭄 |

5. 다음에서 설명하는 지형은?

- 밀물 때는 잠기고 썰물 때는 드러나는 지형
- 자정 작용을 하며 다양한 염생 식물이 서식

- ① 갯벌    ② 선상지    ③ 화구호    ④ 석회동굴

6. (가)에 들어갈 말로 옳은 것은?



- ① 세계화
- ② 역도시화
- ③ 이촌 향도
- ④ 인구 공동화

7. 다음에서 설명하는 식량 자원은?

- 세계 3대 식량 작물 중 하나이다.
- 미국, 캐나다, 오스트레일리아 등이 주요 생산지이다.
- 생산지와 소비지가 달라 국제적 이동량이 많다.

- ① 밀    ② 귀리    ③ 감자    ④ 보리

8. 다음에서 설명하는 농업 형태는?

선진국의 자본·기술과 저개발국의 노동력을 이용하여 상품 작물을 재배하는 방식이다. 열대 기후 지역을 중심으로 카카오, 커피 등이 주로 재배된다.

- ① 낙농업    ② 수목 농업
- ③ 혼합 농업    ④ 플랜테이션 농업

9. 사회 불평등을 해결하기 위한 제도를 <보기>에서 고른 것은?

- <보기>
- ㄱ. 호주 제도    ㄴ. 카스트 제도
  - ㄷ. 최저 임금 제도    ㄹ. 국민 기초 생활 보장 제도

- ① ㄱ, ㄴ    ② ㄱ, ㄷ    ③ ㄴ, ㄷ    ④ ㄷ, ㄹ

10. 다음 내용을 포함하는 기본권은?

- 법률에 의한 재판받을 권리
- 국가 기관에 문서로 청원할 권리

- ① 자유권    ② 참정권    ③ 청구권    ④ 평등권

11. ㉠과 ㉡에 들어갈 용어를 알맞게 짝 지은 것은?

- <재판의 종류>
- ㉠ - 금전 거래 등을 둘러싼 개인 간의 분쟁 해결
  - ㉡ - 폭행이나 사기와 같은 범죄 사건 판결

- |         |       |         |       |
|---------|-------|---------|-------|
| ㉠       | ㉡     | ㉠       | ㉡     |
| ① 형사 재판 | 민사 재판 | ② 민사 재판 | 형사 재판 |
| ③ 형사 재판 | 행정 재판 | ④ 민사 재판 | 행정 재판 |

12. 국회의 역할을 <보기>에서 고른 것은?

<보기>

ㄱ. 국민의 의사 대변      ㄴ. 법률의 제정 및 개정  
 ㄷ. 법률의 해석 및 적용    ㄹ. 정책의 수립 및 집행

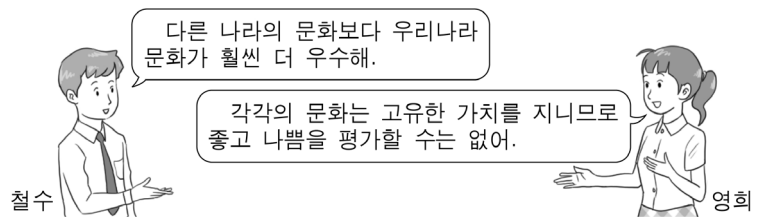
- ① ㄱ, ㄴ      ② ㄱ, ㄷ      ③ ㄴ, ㄹ      ④ ㄷ, ㄹ

13. 다음 내용과 관계 깊은 정치 참여 주체는?

○ 자기 집단의 특수한 이익 실현 추구  
 ○ 로비나 집회 등으로 정치과정에 압력 행사

- ① 법원                              ② 행정부  
 ③ 이익 집단                        ④ 헌법 재판소

14. 대화에서 영희가 문화를 바라보는 태도로 알맞은 것은?



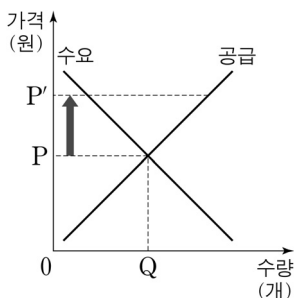
- ① 문화 사대주의                      ② 문화 상대주의  
 ③ 문화 제국주의                      ④ 자문화 중심주의

15. 다음에서 설명하는 경제학 개념은?

생산 과정을 여러 개의 부문과 공정으로 나누어, 서로 다른 사람들이 특정 부문에서 전문적으로 일하는 노동 형태


- ① 교환      ② 무역      ③ 분업      ④ 분배

16. 수요·공급 그래프에서 가격이 P에서 P'로 상승하였을 때의 변화를 알맞게 짝 지은 것은? (단, 다른 조건은 일정함.)



- |   | 수요량 | 공급량 |
|---|-----|-----|
| ① | 감소  | 증가  |
| ② | 증가  | 감소  |
| ③ | 감소  | 감소  |
| ④ | 증가  | 증가  |

17. 다음 도구를 처음 사용한 시대의 생활 모습은?



<뼔석기>

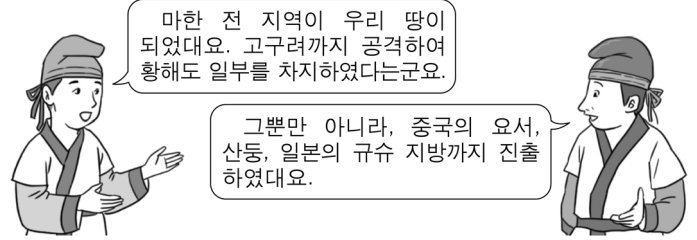
- ① 문자 사용  
 ② 농경 생활 시작  
 ③ 반달 돌칼 사용  
 ④ 수렵과 채집 생활

18. 문화유산 ㉠과 ㉡이 제작된 시대는?

창식이네는 여름 방학을 맞이하여 가족 여행을 다녀왔다. 가장 기억에 남았던 것은 불교의 이상 세계를 표현한 ㉠ 불국사와 비천상 무늬가 아름다운 ㉡ 성덕대왕신종이었다.

- ① 백제      ② 통일신라      ③ 발해      ④ 고려

19. 다음 가상 대화와 관계 깊은 백제의 왕은?



- ① 성왕      ② 고이왕      ③ 의자왕      ④ 근초고왕

20. 다음 내용에 해당하는 고려 시대 문화유산은?

○ 몽골의 침입을 물리치기 위해 만들.  
 ○ 현재 합천 해인사에 보관되어 있음.

- ① 팔만대장경                          ② 용비어천가  
 ③ 직지심체요절                        ④ 무구정광대다라니경

21. 다음 내용에 해당하는 정치 세력은?

○ 성리학을 수용하고 과거를 통해 중앙 관직에 진출  
 ○ 권문세족 비리를 비판하고 고려 사회의 개혁을 추진

- ① 문벌 귀족                              ② 지방 호족  
 ③ 신진 사대부                            ④ 신흥 무인 세력

22. 제시된 주제로 그림을 그리고자 할 때 적절한 것은?

○ 주제: 임진왜란 당시 국난 극복을 위해 활동하는 모습을 그림으로 표현해 보기

- ① 강화도에서 항전하는 어재연  
 ② 학익진 전법으로 적을 물리치는 이순신  
 ③ 안시성에서 적과 싸우는 성주와 백성들  
 ④ 살수에서 우중문 부대를 물리치는 을지문덕

23. 다음 내용에 해당하는 조약은?

○ 발단: 일본의 운요호 사건  
 ○ 내용: 해안 측량권, 치외 법권 인정  
 ○ 의의: 최초의 근대적 조약이면서 불평등 조약

- ① 을사조약      ② 한성조약      ③ 강화도조약      ④ 제물포조약

24. 다음 내용과 관계 깊은 인물은?

○ 김구가 조직한 한인 애국단에 가입  
 ○ 상하이 홍커우 공원에서 폭탄을 던져 일본군을 응징

- ① 김좌진      ② 윤봉길      ③ 최충헌      ④ 홍범도

25. 다음 내용과 관계 깊은 독립군 부대는?

○ 대한민국 임시 정부가 조직  
 ○ 연합군과 함께 항일 독립 전쟁 전개  
 ○ 미군과 합동으로 국내 침투 작전 계획

- ① 별기군                                      ② 별무반  
 ③ 삼별초                                      ④ 한국 광복군

※ 확인 사항

답을 OMR 답안지의 해당란에 정확히 표기했는지 확인하시오.