

제 1 교시

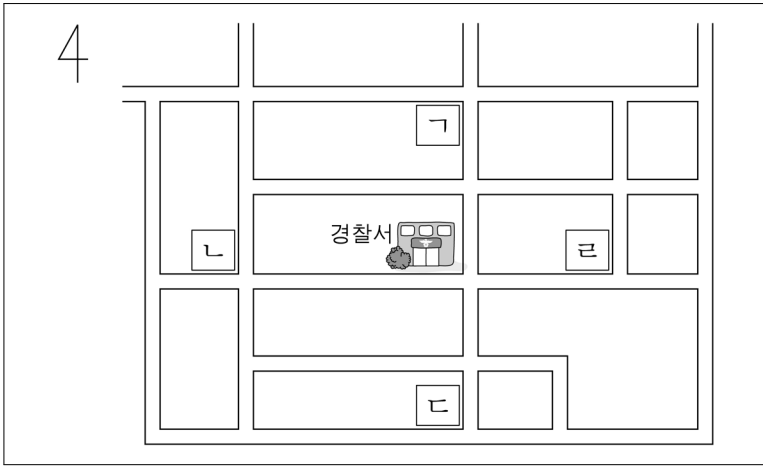
사 회

수험번호 ( )

성 명 ( )

※ 다음 물음에 대한 가장 옳은 답을 하나만 골라 정확히 표기하시오.

1. 학교는 경찰서의 남쪽에 있습니다. 지도에서 학교가 위치한 곳은?



- ① 가 ② 나 ③ 다 ④ 르

2. 주민들이 지방 선거를 통해서 선출할 수 있는 사람은?

- ① 판사 ② 경찰청장 ③ 은행 지점장 ④ 시·도 의원

3. 다음에서 대비하고자 하는 자연재해는?



주민 여러분! 물이 잘 빠지지 않는 곳을 살피고, 가건물, 비닐하우스 등은 버팀대를 대도록 합시다. 산사태가 날 위험이 있는 곳은 미리 둘러보고, 안전사고에 유의합시다.

- ① 가뭄 ② 호우 ③ 산불 ④ 황사

4. 다음에서 설명하는 민주 선거의 원칙은?

빈부, 성별, 학력 등 조건에 관계없이 한 사람이 한 표씩 투표할 수 있는 것

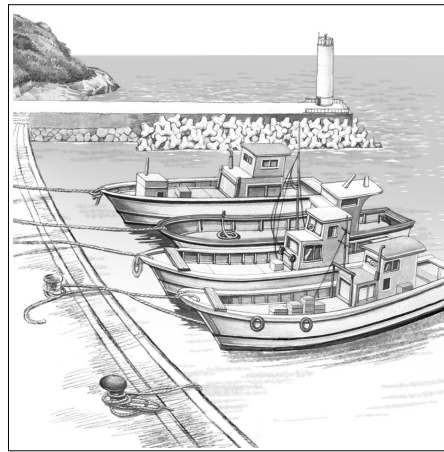
- ① 보통 선거 ② 평등 선거 ③ 비밀 선거 ④ 직접 선거

5. <보기>에서 생산 활동만으로 짝지어진 것은?

<보기>  
가. 바다에서 굴을 양식한다.  
나. 홈쇼핑에서 김치를 산다.  
다. 시장에서 모자를 구입한다.  
르. 공장에서 에어컨을 만든다.

- ① 가, 나 ② 가, 르 ③ 나, 다 ④ 나, 르

6. 그림과 같은 모습을 쉽게 볼 수 있는 지역은?



- ① 농촌 ② 어촌 ③ 도시 ④ 산지촌

7. 다음에서 설명하는 것은?

우리나라는 국가 권력을 국회, 정부, 법원의 세 기관이 나누어 맡게 하고 있다.

- ① 3심 제도 ② 선거 제도 ③ 사회 복지 제도 ④ 삼권 분립 제도

8. 현대 민주 정치의 원리와 거리가 먼 것은?

- ① 국가의 주인은 국민이다. ② 여성의 정치 참여가 금지된다. ③ 법에 따라 국가 정책을 결정한다. ④ 대화와 타협을 통해 해결 방안을 찾는다.

9. 다음에서 설명하는 우리 조상들의 생활용품은?

- 자투리천 등 색색의 각종 천들을 이어서 만듦.
- 이불보, 상보 등으로 사용함.

- ① 떡살                                ② 부채
- ③ 용기                                 ④ 조각보

10. 다음에 해당하는 신라 시대의 종교는?

- 법흥왕 때 이차돈의 순교로 나라의 종교로 받아들임.
- 왕권을 강화시키는 데 큰 역할을 함.

- ① 불교            ② 유교            ③ 기독교        ④ 천도교

11. 다음과 같이 북방 민족 침략에 맞서 싸운 나라는?

- 거란의 침입: 강감찬의 귀주 대첩
- 여진족의 침입: 윤관의 별무반 조직과 9성 건설
- 몽골의 침입: 삼별초 항쟁

- ① 백제            ② 신라            ③ 고려            ④ 조선

12. 고려 시대 주요 수출품은?

- ① 인삼            ② 유리            ③ 산호            ④ 향료

13. 다음에서 설명하는 조선 시대의 신분은?

나라와 양반의 재산으로 여겨졌으며, 주인이 시키는 여러 가지 일을 함.

- ① 노비            ② 상민            ③ 왕족            ④ 중인

14. 다음 서적과 관련 있는 인물은?

- 삼강행실도    ○ 훈민정음 언해본    ○ 농사직설

- ① 왕건            ② 장보고        ③ 최무선        ④ 세종 대왕

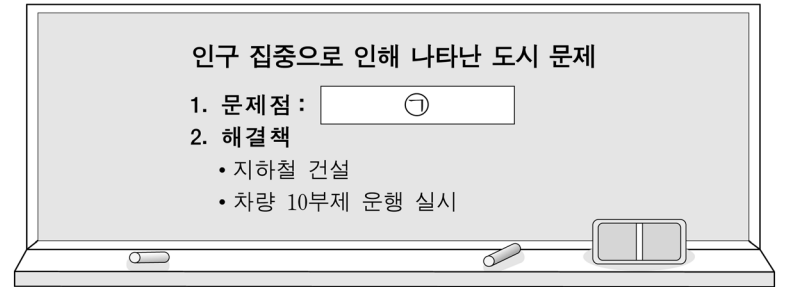
15. 조선 후기에 전래된 서양 문물이 아닌 것은?

- ① 자명종                                ② 천리경
- ③ 나전 칠기                             ④ 곤여만국전도

16. 광복 이후 우리나라 민주화 과정에 있었던 역사적 사건은?

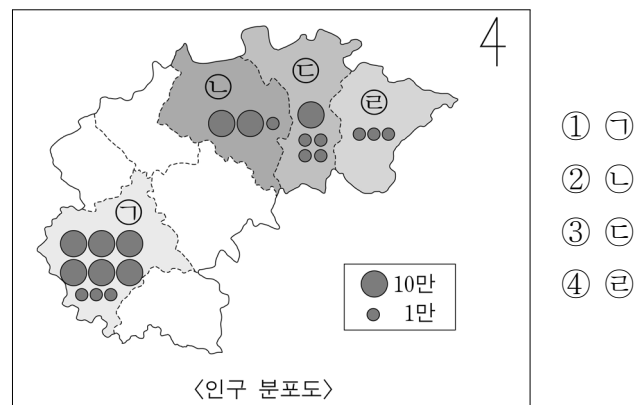
- ① 병인양요                             ② 을사조약
- ③ 4·19 혁명                            ④ 봉오동 전투

17. ㉠에 들어갈 문제점으로 가장 적절한 것은?



- ① 교통 체증                             ② 빈부 격차
- ③ 주택 부족                            ④ 천연자원 부족

18. ㉠~㉣ 고장 중에서 인구가 가장 많은 곳은?

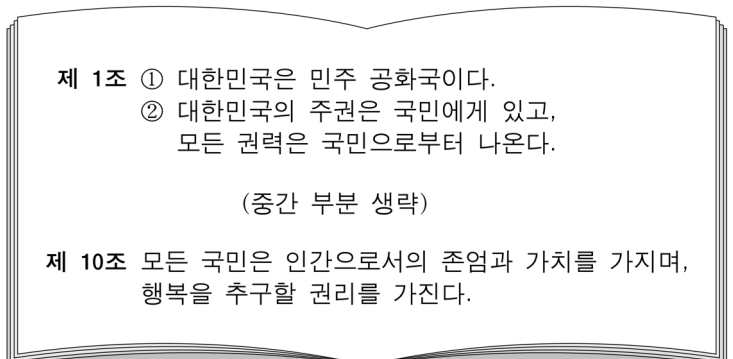


19. 다음에서 설명하는 강은?

- '지구의 허파'라고 불리는 열대 우림이 발달되어 있음.
- 남아메리카의 여러 국가에 걸쳐 있음.

- ① 양쯔 강                                ② 나일 강
- ③ 아마존 강                            ④ 미시시피 강

20. 다음 내용이 들어 있는 우리나라 최고의 법은?



- ① 규칙            ② 법률            ③ 조례            ④ 헌법