

11. ㉠, ㉡에 들어갈 말로 알맞은 것은?

전기다리미와 전기난로는 ㉠을(를) 얻기 위해 사용하고, 형광등과 백열등은 ㉡을(를) 얻기 위해 활용하는 전기기구이다.

- | | | | | | |
|---|---|----|---|----|----|
| | ㉠ | ㉡ | | ㉠ | ㉡ |
| ① | 열 | 빛 | ② | 동력 | 열 |
| ③ | 빛 | 소리 | ④ | 소리 | 동력 |

12. 목제품 제작 과정을 순서대로 바르게 배열한 것은?

ㄱ. 목재 조립하고 칠하기
 ㄴ. 치수에 맞게 목재 자르기
 ㄷ. 목재를 매끄럽게 다듬기
 ㄹ. 필요한 재료와 공구 준비하기

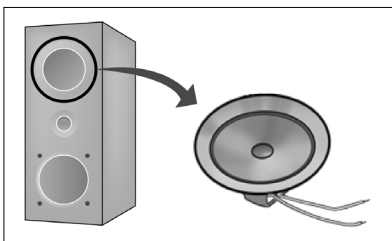
- ① ㄱ → ㄴ → ㄷ → ㄹ
 ② ㄴ → ㄷ → ㄱ → ㄹ
 ③ ㄷ → ㄹ → ㄱ → ㄴ
 ④ ㄹ → ㄴ → ㄷ → ㄱ

13. 다음에 해당하는 나무는?

○ 잎이 바늘처럼 가늘고 길다.
 ○ 건축물의 뼈대를 만드는 데 사용되기도 한다.

- ① 소나무 ② 참나무 ③ 단풍나무 ④ 오동나무

14. 전기 신호를 소리로 바꾸어 주는 전자 부품은?



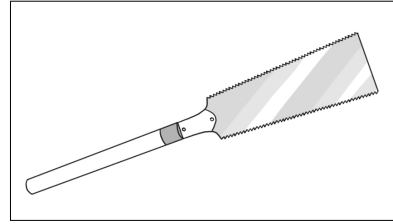
- ① 건전지
 ② 스위치
 ③ 전동기
 ④ 스피커

15. 다음에 해당하는 경제동물은?

○ 고기로 스테이크를 만들어 먹는다.
 ○ 가죽으로 지갑과 신발을 만든다.

- ① 소 ② 닭 ③ 꿀벌 ④ 금붕어

16. 목재를 자르거나 썬 때 사용하는 공구는?



- ① 줄자
 ② 양날톱
 ③ 장도리
 ④ 드라이버

17. 다음에 해당하는 가족 형태는?




- ① 핵가족 ② 확대 가족
 ③ 독신 가족 ④ 한 부모 가족

18. 다음과 같은 준비 과정이 필요한 애완동물은?

○ 어항을 깨끗이 씻는다.
 ○ 씻은 자갈과 모래를 바닥에 깔고 수초 등으로 꾸민다.
 ○ 물을 넣고 산소를 공급한 다음 물의 온도를 확인한다.

- ① 강아지 ② 앵무새
 ③ 열대어 ④ 장수풍뎅이

19. 다음에 해당하는 조리 기구는?



○ 평평한 곳에 두고 바늘을 숫자 0에 맞춘다.
 ○ 재료의 무게를 잰다.

- ① 칼 ② 국자
 ③ 도마 ④ 저울

20. <보기>에서 자원을 절약하는 방법으로 옳은 것만을 모두 고른 것은?

<보기>
 ㄱ. 물건을 쓰다가 싫증이 나면 버린다.
 ㄴ. 장시간 사용하지 않는 플러그는 뽑아 둔다.
 ㄷ. 이를 닦거나 세수할 때 물을 받아서 사용한다.

- ① ㄱ ② ㄱ, ㄷ
 ③ ㄴ, ㄷ ④ ㄱ, ㄴ, ㄷ