

제 3 교시

실과

수험번호 ( )

성명 ( )

※ 다음 물음에 대한 가장 옳은 답을 하나만 골라 정확히 표기하시오.

1. 다음에 해당하는 가족의 형태는?



- 서로 다른 나라, 다른 민족의 문화적 배경을 가진 사람들로 구성된 가족
- 국제결혼 등으로 이루어짐

- ① 독신 가족                      ② 다문화 가족
- ③ 조부모 가족                  ④ 한 부모 가족

2. 의생활에 해당하는 것은?

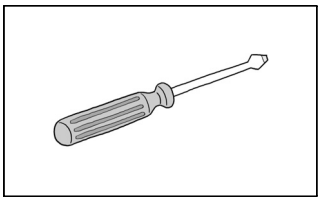
- ① 요리하기                      ② 집 고치기
- ③ 상 차리기                      ④ 옷 손질하기

3. 다음에서 설명하는 손바느질 방법은?

본바느질을 하기 전에 천이 움직이지 않도록 임시로 고정시키기 위해 사용하는 바느질이다.

- ① 흠질                              ② 감침질
- ③ 박음질                          ④ 시침질

4. 그림과 같이 나사못을 조이거나 풀 때 사용하는 공구는?




- ① 대패
- ② 사포
- ③ 양날톱
- ④ 드라이버

5. 다음과 같은 용구를 사용하는 가정의 일은?

빗자루      걸레      먼지떨이

- ① 장보기                          ② 밥 짓기
- ③ 청소하기                        ④ 빨래 널기

6. ㉠에 들어갈 알맞은 것은?



방울토마토의 줄기를 받쳐서 쓰러지지 않도록 ㉠을(를) 세워준다.

- ① 호미                              ② 모종삽
- ③ 받침대                          ④ 물뿌리개

7. 식품군과 그에 속하는 식품을 바르게 짝 지은 것은?

- ① 곡류 - 치즈                      ② 과일류 - 생선
- ③ 채소류 - 오이                      ④ 우유·유제품류 - 밥

8. 다음의 영양 성분 표시에 포함되지 않은 내용은?

영양성분		
1회 제공량(200mL)		
총 1회 제공량		
1회 제공량당 함량	%영양소 기준치	
열량	130kcal	
탄수화물	12g	4%
단백질	6g	11%
지방	7.5g	15%
칼슘	420mg	60%

%영양소 기준치: 1일 영양소 기준치에 대한 비율

- ① 열량
- ② 조리 방법
- ③ 1회 제공량
- ④ 영양소의 종류

9. 다음 의복의 공통된 기능은?

- 소방관이 불을 끌 때 입는 소방복
- 건축 현장에서 사용하는 안전모

- ① 개성 표현                      ② 신체 보호
- ③ 예의 표현                      ④ 위생 유지

10. 우유를 얻기 위해 기르는 경제동물은?

- ① 닭                                  ② 누에                                  ③ 젖소                                  ④ 금붕어

11. 빈칸에 들어갈 알맞은 음식은?


맛있는  만들기

1. 식빵 한쪽 면에 딸기 잼을 바른다.
2. 준비한 속 재료를 식빵 위에 순서대로 얹는다.
3. 다른 식빵의 한쪽 면에 버터를 바르고 덮어 준다.
4. 먹기 좋은 크기로 썰어 접시에 담는다.

- ① 샌드위치
- ② 수박화채
- ③ 김치볶음밥
- ④ 카레라이스

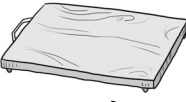
12. 음식 재료를 깎거나 썰 때 사용하는 조리 기구가 아닌 것은?

①




칼

②




도마

③



전자레인지

④




감자 깎는 칼

13. 소리를 듣기 위해 이용하는 전기·전자 제품은?

- ① 라디오
- ② 형광등
- ③ 백열전구
- ④ 전기난로

14. 다음과 같이 전기 에너지를 얻는 방법은?



바람의 힘을 이용하여 전기를 얻는다.

- ① 수력 발전
- ② 풍력 발전
- ③ 화력 발전
- ④ 태양열 발전

15. 다음과 같이 채소를 나누는 기준은?

잎줄기채소
뿌리채소
열매채소

- ① 가격
- ② 크기
- ③ 신선도
- ④ 이용 부위

16. (가)와 (나)에 해당하는 직업으로 알맞은 것은?

(가) 학교에서 학생을 가르친다.  
(나) 아픈 동물을 진찰하고 치료한다.

- | (가)   | (나)  |
|-------|------|
| ① 판사  | 가수   |
| ② 교사  | 수의사  |
| ③ 미용사 | 과학자  |
| ④ 요리사 | 디자이너 |

17. 컴퓨터를 활용하여 인터넷에서 필요한 정보를 찾는 활동은?

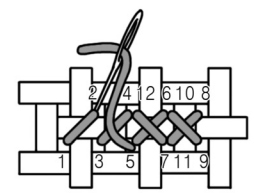
- ① 녹음하기
- ② 인쇄하기
- ③ 사진 찍기
- ④ 정보 검색하기

18. 용돈 기입장에서 다음 내용이 해당하는 항목은?

- 부모님께 받은 용돈
- 할아버지께 받은 세뱃돈


- ① 날짜
- ② 수입
- ③ 잔액
- ④ 지출

19. 다음과 같이 열쇠고리를 만드는 데 사용된 손바느질 방법은?



대각선 방향으로 바늘을 넣어 수를 놓는다.

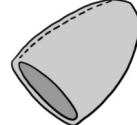
→



열쇠고리

- ① 십자수
- ② 구슬 공예
- ③ 대바늘뜨기
- ④ 재봉틀 바느질

20. 다음에 해당하는 바느질 용구는?



바느질할 때, 손가락을 보호하기 위해 사용한다.

- ① 골무
- ② 초크
- ③ 시침핀
- ④ 쪽가위