

제 ③ 교시


실과

수험번호 ()

성명 ()

※ 다음 물음에 대한 가장 옳은 답을 하나만 골라 정확히 표기하시오.

1. 그림의 식품들이 속하는 식품군은?



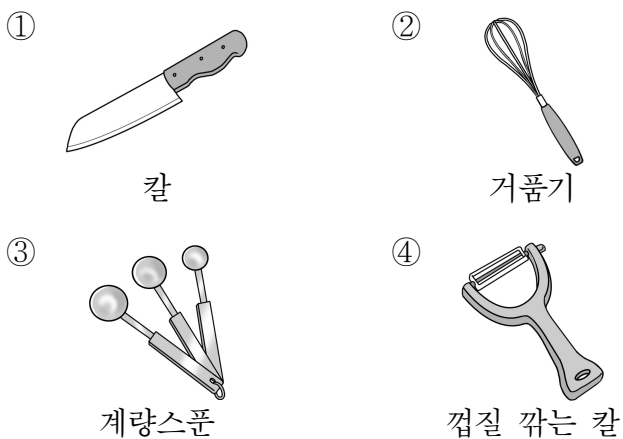
- ① 곡류 ② 과일류
③ 유지·당류 ④ 우유·유제품류

2. 벌레로 인해 옷이 상하지 않도록 옷장 안에 넣는 것은?

- ① 방충제 ② 표백제
③ 주방세제 ④ 섬유유연제

3. 다음 밑줄 친 재료의 분량을 계량하는 용구로 가장 적절한 것은?

<시금치 된장국: 재료 4인분>
시금치 100g, 된장 3큰술, 물 5컵, 다진 마늘 1작은술,
국물용 멸치 10개, 대파 1/4 개, 국간장 1/3 큰술



4. 다음 설명에 해당하는 작물은?

○ 먹을거리로 이용하기 위해 재배하는 작물이다.
○ 벼, 보리, 밀, 옥수수, 콩, 감자 등이 대표적이다.

- ① 공예 작물 ② 식용 작물
③ 약용 작물 ④ 원예 작물

5. 채소와 그 이용 부위를 바르게 연결하지 않은 것은?

- ① 무 - 뿌리 ② 가지 - 열매
③ 당근 - 뿌리 ④ 시금치 - 열매

6. 의생활에 해당하는 활동을 <보기>에서 고른 것은?

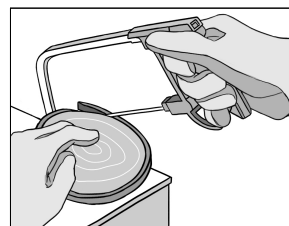
<보기>
ㄱ. 요리하기 ㄴ. 청소하기
ㄷ. 빨래하기 ㄹ. 옷 손질하기

- ① ㄱ, ㄴ ② ㄱ, ㄹ ③ ㄴ, ㄷ ④ ㄷ, ㄹ

7. 가정 일을 도와주는 로봇은?

- ① 청소 로봇 ② 우주 탐사 로봇
③ 산불 감시 로봇 ④ 군사용 지뢰 탐지 로봇

8. 그림과 같이 목재를 곡선으로 자를 때 사용하는 공구는?



- ① 대패
② 실톱
③ 장도리
④ 드라이버


9. 정보 기기가 아닌 것은?

- ① 젓가락 ② 컴퓨터
③ 스마트폰 ④ 디지털카메라

10. 화학 비료와 농약을 사용하지 않고 재배한 농산물에 부여하는 인증 마크는?



11. 다음에 해당하는 음식은?



나물, 고기, 달걀 등을 밥 위에 올려 놓아 비벼 먹는 우리나라 전통 음식이다.

- ① 김치 ② 냉면 ③ 비빔밥 ④ 탕수육

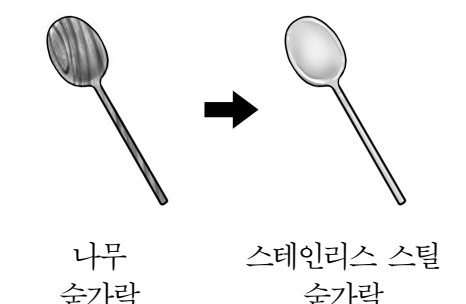
12. 아픈 사람을 치료하고 돌봐주는 직업에 해당하는 것을 <보기>에서 고른 것은?

<보기>

ㄱ. 의사	ㄴ. 간호사
ㄷ. 가구 디자이너	ㄹ. 자동차 정비사

- ① ㄱ, ㄴ ② ㄱ, ㄹ
③ ㄴ, ㄷ ④ ㄷ, ㄹ

13. 그림에 해당하는 발명 기법으로 가장 적절한 것은?



나무 숟가락 → 스테인리스 스틸 숟가락

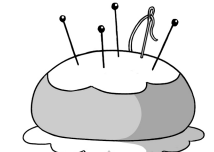
① 빼기 ② 더하기
③ 모양 바꾸기 ④ 재료 바꾸기

14. 다음 설명에 해당하는 경제동물은?

○ 우유를 얻을 수 있다.
○ 축사에서 사료를 먹이거나 방목하여 기른다.

- ① 오리 ② 젖소
③ 꿀벌 ④ 금붕어

15. 다음에 해당하는 바느질 용구는?



바늘이나 시침핀을 꽂아 둔다.

- ① 골무 ② 초크
③ 쪽가위 ④ 바늘꽃이

16. 표는 ○○식품의 포장에 표시된 내용의 일부이다. 이를 통해 알 수 있는 것은?

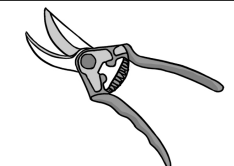
1회 제공량: 1봉지(40g)		
총 5회 제공량(200g)		
1회 제공량 당	함량	%영양기준
열 량	220kcal	
탄수화물	25g	8%
당 류	10g	
단 백 질	3g	5%
지 방	12g	24%

- ① 원산지 ② 유통기한
③ 영양성분 ④ 조리방법

17. 용돈 기입장에서 수입에 해당하는 내용은?

- ① 삼촌에게서 받은 용돈
② 생일 선물을 사기 위해 쓴 돈
③ 과자를 사는 데 사용한 간식비
④ 공책을 구입하는 데 쓴 학용품비

18. 다음에 해당하는 식물 가꾸기 도구는?



꽃이나 나무의 가지를 자를 때 사용한다.

- ① 모종삽 ② 분무기
③ 물뿌리개 ④ 전지(전정)가위

19. 다음 설명에 해당하는 재활용품의 분리·배출 표시는?

○ 내용물은 비우고 압축하여 배출한다.
○ 같은 재질의 뚜껑은 안에 넣어 배출한다.
○ 살충제 용기 등은 구멍을 뚫어 배출한다.

- ① 유리 ② 종이
③ 캔류 ④ 비닐류

20. 다음 설명에 해당하는 것은?

○ 전기를 공급해준다.
○ (+)극과 (-)극을 맞추어 사용한다.

- ① 전구 ② 건전지 ③ 스피커 ④ 헤드폰