

제 4 교시

사 회

수험번호 ()

성 명 ()

※ 다음 물음에 대한 가장 옳은 답을 하나만 골라, OMR 답안지에 정확히 표기하시오.

1. 다음 내용에 공통적으로 영향을 주는 요인은?

- 세계 표준시 ○ 날짜 변경선

- ① 위도 ② 경도 ③ 기후 ④ 언어

2. 다음 내용에 해당하는 섬은?

- 오름과 용암동굴, 주상 절리 등 관광 자원 풍부
- 일부 지역이 유네스코(UNESCO) 세계 자연 유산, 세계 지질 공원, 생물권 보전 지역으로 지정

- ① 백령도 ② 거제도 ③ 울릉도 ④ 제주도

3. 다음 내용에 해당하는 자연재해는?

- 최근 도시화로 저지대에 대규모 피해 발생
- 여름철에 주로 나타나며, 장마나 태풍에 의한 집중 호우의 영향으로 발생

- ① 화산 ② 한파 ③ 홍수 ④ 지진

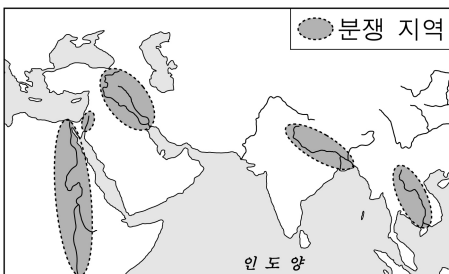
4. 부도심에 대한 적절한 설명을 <보기>에서 고른 것은?

<보기>

- ㄱ. 도심의 일부 기능을 분담한다.
- ㄴ. 행정 기능을 분담하는 위성 도시이다.
- ㄷ. 대도시 내부의 교통 요지에 발달한다.
- ㄹ. 도시와 농촌의 모습이 혼재되어 나타난다.

- ① ㄱ, ㄴ ② ㄱ, ㄷ ③ ㄴ, ㄹ ④ ㄷ, ㄹ

5. 지도에 표시된 지역의 공통적인 분쟁 원인은?



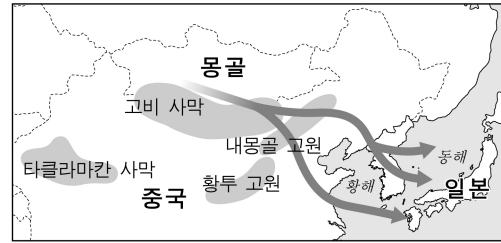
- ① 물
- ② 카카오
- ③ 옥수수
- ④ 철광석

6. 다음 내용에 해당하는 곳은?

우리나라에서 해가 가장 먼저 뜨는 곳으로, 수산자원과 메탄하이드레이트와 같은 지하자원이 풍부함.

- ① 독도 ② 포항 ③ 원산 ④ 나진

7. 그림의 황사 현상에 대한 설명으로 옳지 않은 것은?



- ① 편서풍을 타고 이동한다.
- ② 사막화가 확대되면서 심해지고 있다.
- ③ 비가 잦은 여름철에 가장 많이 발생한다.
- ④ 눈병, 호흡기와 알레르기 질환의 원인이 될 수 있다.

8. 한반도 통일에 따라 예상되는 결과로 적절하지 않은 것은?

- ① 이산가족 문제를 해결할 수 있을 것이다.
- ② 육로를 이용한 대륙 진출에 유리해질 것이다.
- ③ 남북 간에 사람과 자원의 흐름이 원활해질 것이다.
- ④ 남북 군사 대립에 따른 분단 비용이 증가할 것이다.

9. 다음 헌법 조항에 나타난 민주 정치의 기본 원리는?

제1조 ② 대한민국의 주권은 국민에게 있고, 모든 권력은 국민으로부터 나온다.

- ① 법치주의 ② 국민 주권 ③ 국민 복지 ④ 권력 분립

10. 다음에서 공통적으로 알 수 있는 문화의 특징은?

- 미국에서는 악수로 인사하고, 태국에서는 손을 모으고 목례로 인사한다.
- 한국은 중간 길이의 쇠 젓가락을 사용하고, 일본은 짧고 끝이 뾰족한 나무 젓가락을 사용한다.

- ① 절대성 ② 형평성 ③ 다양성 ④ 강제성

11. 다음 글에 나열된 사회적 지위 중 성격이 다른 것은?

나는 ㉠ 큰 아들로 태어나 ... ㉡ 학생회장으로서 리더십을 발휘하였고 ... ㉢ 사회교사로 근무하다가 현재는 ㉣ 대학교수로 활동하고 있습니다.

- ① ㉠ ② ㉡ ③ ㉢ ④ ㉣

12. 다음에 해당하는 민주 선거의 원칙은?

- 일정한 나이 이상의 국민이면 누구나 선거권을 갖는다.
- 우리나라에서는 만 19세 이상이면 누구나 투표할 수 있다.

- ① 보통 선거 ② 평등 선거 ③ 직접 선거 ④ 비밀 선거

13. 다음 사건에 해당하는 재판의 종류는?

제 0000호 ○ ○ 일보 0000년 00월 00일
 △△지방검찰청 □□□□검사는 빌린 돈을 갚지 않았다는 이유로 갑을 폭행한 을에 대해 법원에 재판을 청구하였다.

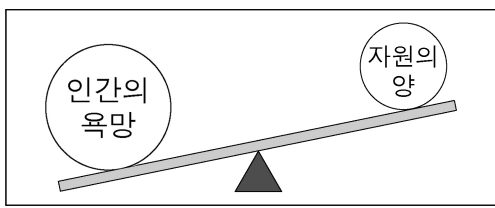
- ① 가사 재판 ② 형사 재판 ③ 행정 재판 ④ 선거 재판

14. 다음에서 설명하는 국가 기관의 수반은?

○ 법률을 집행하여, 국가의 목적이나 공익을 실현한다.
 ○ 교육, 외교, 국방 등 분야별로 행정을 담당한다.

- ① 대통령 ② 국회의장
 ③ 대법원장 ④ 헌법재판소장

15. 그림이 의미하는 경제 개념으로 가장 적절한 것은?



- ① 경제 성장 ② 국제 수지
 ③ 국내 총생산 ④ 자원의 희소성

16. 두 사람의 대화 내용에 해당하는 실업의 종류는?

하던 일이 적성에 맞지 않아 회사를 그만 두고 새로운 일을 찾고 있어.
 나도 직장을 그만 뒀어. 월급이 적더라도 여가 시간이 많은 곳을 찾는 중이야.



- ① 계절적 실업 ② 구조적 실업
 ③ 마찰적 실업 ④ 경기적 실업

17. 다음 내용에 해당하는 나라는?

○ 청동기를 배경으로 한 우리나라 최초의 국가
 ○ '널리 인간을 이롭게 한다'는 건국 이념
 ○ 나라를 다스리기 위한 8조의 법

- ① 동예 ② 부여 ③ 고구려 ④ 고조선

18. 다음 내용에 해당하는 단체는?

○ 대한민국 임시 정부의 김구가 조직
 ○ 이봉창이 도쿄에서 일본 국왕 암살 시도
 ○ 윤봉길이 상하이에서 폭탄을 던져 일본군 장성 살상

- ① 신간회 ② 만민 공동회
 ③ 한인 애국단 ④ 조선 건국 동맹

19. 밑줄 친 사건의 원인은?

4·19 혁명 결과 이승만이 해야하였고, 이것은 학생과 시민이 힘을 합쳐 독재 정권을 무너뜨린 최초의 민주주의 혁명이었다.

- ① 한·일 협정 ② 3·15 부정 선거
 ③ 6·10 만세 운동 ④ 광주 학생 항일 운동

20. (가)에 해당하는 문화재는?

질문 (가)에 대해 알려주세요.
 답변 고구려 장수왕 때 남진 정책을 추진하여 한반도의 남한강 유역까지 진출하였던 사실을 알려 주는 비석입니다.

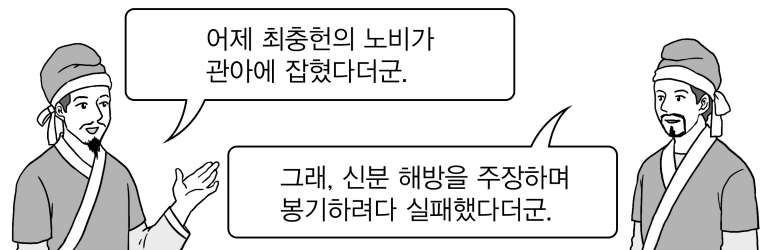
- ① 척화비 ② 탕평비
 ③ 충주 고구려비 ④ 백두산 정계비

21. 다음 설명에 해당하는 사상은?

산과 물, 땅의 모양이 인간 생활에 영향을 준다는 사상으로, 신라 말 금성 중심의 생각에서 벗어나 지방의 중요성을 강조하여 지방 호족 세력의 환영을 받았다.

- ① 선종 ② 실학 ③ 성리학 ④ 풍수지리설

22. 두 사람의 대화 내용에 해당하는 사건은?



- ① 만적의 난 ② 김현창의 난
 ③ 홍경래의 난 ④ 망이·망소이의 난

23. 다음의 업적을 남긴 조선의 왕은?

○ 측우기 제작 ○ 칠정산 제작 ○ 4군 6진 개척

- ① 태종 ② 세종 ③ 정조 ④ 순조

24. 수행 평가 주제에 대한 탐구 내용으로 가장 적절한 것은?

〈수행 평가 계획서〉
 주제: 임진왜란 때 활약한 인물 조사하기

- ① 귀주에서 병사를 지휘하는 강감찬
 ② 별무반을 이끌고 여진족을 정벌하는 윤관
 ③ 한산도 앞바다에서 수군을 지휘하는 이순신
 ④ 살수에서 수나라 군대를 물리치는 을지문덕

25. 다음 내용에 해당하는 운동은?

○ 1920년대 초 평양에서 조만식 등이 주도함.
 ○ '내 살림 내 것으로'라는 구호를 내세우며 국산품 애용 운동을 전개함.

- ① 브나로드 운동 ② 위정척사 운동
 ③ 동학 농민 운동 ④ 물산 장려 운동

※ 확인 사항
 답을 OMR 답안지의 해당란에 정확히 표기했는지 확인하십시오.