

1. 갈등의 사례로 적절한 것은?

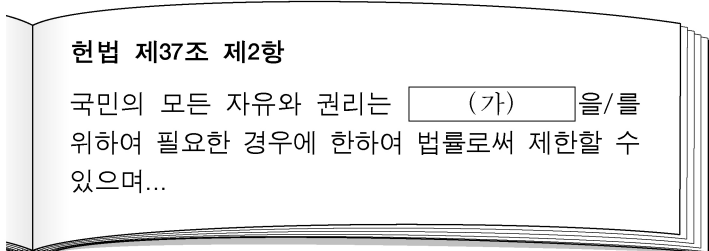
- ① 시험에서 1등 하기 위해 열심히 공부한다.
- ② 오케스트라 연주를 위해 팀원들과 연습 중이다.
- ③ 영토 소유권을 둘러싸고 두 나라가 분쟁 중이다.
- ④ 마을 가꾸기 운동으로 함께 벽화를 그리고 있다.

2. 다음과 같은 판단 유형에 해당하는 것은?

백두산은 지리산보다 해발고도가 높다.

- ① 유기견을 보호해야 한다.
- ② 워싱턴은 미국의 수도이다.
- ③ 세종대왕은 훌륭한 왕이다.
- ④ 불우 이웃을 돕는 것은 중요하다.

3. (가)에 들어갈 내용으로 적절하지 않은 것은?



- ① 공공복리
- ② 질서 유지
- ③ 국가 안전 보장
- ④ 사적 이익 추구

4. 다음 설명에 해당하는 사회 참여 방법은?

국민이 일정한 사항을 국가 기관에 문서로 작성하여 그 처리를 요구하는 것이다.

- ① 청원
- ② 공청회
- ③ 정당 가입
- ④ 집회 참여

5. 다음 정책의 공통적인 목적으로 적절한 것은?

○ 여성 고용 할당제      ○ 장애인 의무 고용제

- ① 지역 격차 해소
- ② 전통 문화 보존
- ③ 세대 갈등 해소
- ④ 사회적 약자 보호

6. 다음 설명에 공통적으로 해당하는 문화 이해 태도는?

○ 특정 문화를 기준으로 자기 문화를 평가한다.  
○ 다른 문화가 자기 문화보다 우월하다고 본다.

- ① 문화 상대주의
- ② 문화 사대주의
- ③ 문화 제국주의
- ④ 자문화 중심주의

7. 밑줄 친 '이것'에 해당하는 것은?

이것은 보유하고 있는 자산을 얼마나 쉽게 현금으로 바꿀 수 있는가를 의미한다.

- ① 유동성
- ② 수익성
- ③ 안전성
- ④ 투기성

8. 다음 대화에 나타나 있는 권리는?

갑: 너희 회사에는 노동조합이 있니?  
을: 아니. 이번에 회사 동료들과 노동조합을 만들 거야.

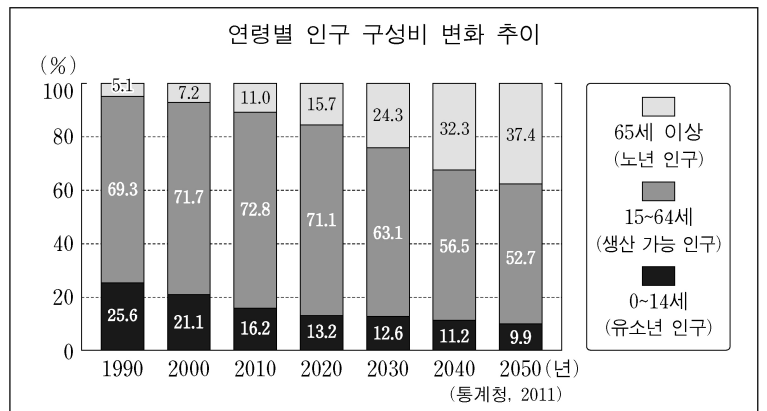
- ① 청구권
- ② 단결권
- ③ 환경권
- ④ 공무담임권

9. 다문화 사회의 갈등을 해결하기 위한 바람직한 방안으로 옳은 것을 <보기>에서 고른 것은?

<보기>  
ㄱ. 이주민이 자기 문화를 버리도록 강요한다.  
ㄴ. 학교와 지역 사회에서 다문화 교육을 강화한다.  
ㄷ. 서로 다른 문화 간의 소통과 관용의 자세를 가진다.  
ㄹ. 자기가 속한 문화 이외의 다른 문화는 배척한다.

- ① ㄱ, ㄴ
- ② ㄱ, ㄹ
- ③ ㄴ, ㄷ
- ④ ㄷ, ㄹ

10. 그래프에 대한 분석으로 적절하지 않은 것은?



- ① 유소년 인구 비율이 감소하고 있다.
- ② 2010년에 초고령 사회로 진입하였다.
- ③ 노년 인구 비율이 지속적으로 증가하고 있다.
- ④ 생산 가능 인구의 노인 부양 부담이 증가할 것이다.

11. 밑줄 친 '이것'으로 가장 적절한 것은?

이것은 유행에 따라 상품을 구매하는 현상으로 다른 사람의 소비 행동을 그대로 따라 하는 소비 행태이다.

- ① 베블렌 효과
- ② 스노브 효과
- ③ 하우스 푸어
- ④ 밴드왜건 효과

12. 다음 설명에 해당하는 것은?

상품이나 서비스를 먼저 받고 나중에 대금을 지불하는 수단으로, 충동구매와 과소비를 유발하여 채무 불이행자가 증가할 수 있다.

- ① 예금
- ② 현금
- ③ 주식
- ④ 신용카드

13. 환율(원/달러)이 상승할 경우 가장 유리한 사람은? (단, 다른 조건은 일정하다고 가정한다.)

- ① 미국으로 여행을 가려는 대학생
- ② 미국 유학 중인 자녀에게 송금하는 부모
- ③ 미국 시장에 상품을 수출하는 수출업자
- ④ 미국에서 원자재를 수입하여 상품을 생산하는 기업가

14. (가)에 들어갈 개념으로 적절한 것은?

(가)란 도시의 수가 증가하거나 도시 인구 비율이 높아지는 현상을 말한다.

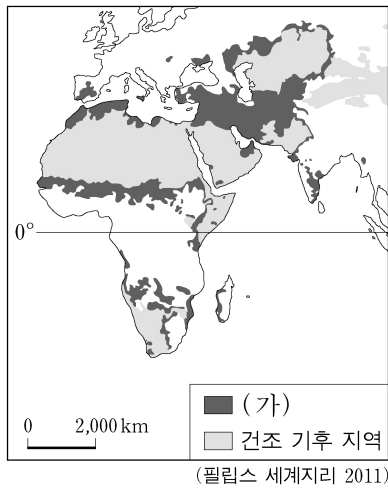
- ① 교외화
- ② 지역화
- ③ 도시화
- ④ 정보화

15. 밑줄 친 ㉠의 관점이 반영되어 나타난 사례로 가장 적절한 것은?

지나친 개발로 자연 환경이 파괴된 후 ㉠ “인간과 자연이 서로 공존해야 한다.”라는 관점으로 인간과 자연 사이의 관계를 재정립하였다.

- ① 자연을 신격화하여 숭배하였다.
- ② 공업단지 조성을 위해 갯벌을 간척하였다.
- ③ 용수 확보를 위해 다목적 댐을 건설하였다.
- ④ 도로 건설 시 야생 동물을 위한 생태 통로를 건설하였다.

16. 지도의 (가) 지역에서 발생하는 환경문제를 해결하기 위한 국제 협약은?




- ① 런던 협약
- ② 람사르 협약
- ③ 몬트리올 의정서
- ④ 사막화 방지 협약

17. 다음 설명에 해당하는 화석 에너지 자원은?

○ 연소 시 오염 물질 배출량이 적어 청정에너지로 주목 받고 있다.  
○ 낮은 온도로 냉각시켜서 보관하는 기술이 개발되면서 활발하게 이용되었다.

- ① 석유
- ② 석탄
- ③ 원자력
- ④ 천연가스

18. 다음 대화 내용에 나타난 지역 개발 방식에 대한 설명으로 가장 적절한 것은?



- ① 성장 거점에 집중 투자한다.
- ② 형평성을 추구하는 개발 방식이다.
- ③ 님비 또는 핼피 현상이 나타나지 않는다.
- ④ 중앙 정부 주도의 하향식 개발 방식이다.

19. (가) 현상에 대한 설명으로 옳지 않은 것은?

국가 간의 상호 의존성이 높아지고 국제 사회가 국경을 초월하여 하나로 통합되어 가는 과정을 (가) 라고 한다.

- ① 보호 무역 주의로 확대되었다.
- ② 다국적 기업의 출현으로 가속화되었다.
- ③ 교통과 정보·통신의 발달로 가능해졌다.
- ④ 세계 무역 기구(WTO)의 출범으로 확산되었다.

20. 다음 설명에 해당하는 개념은?

인공위성에서 보내는 신호를 수신해 사용자의 현재 위치를 알려주는 시스템이다.

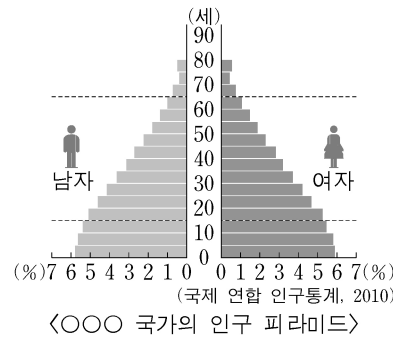
- ① 항공사진
- ② 지리 정보 시스템(GIS)
- ③ 위치 정보 시스템(GPS)
- ④ 유비쿼터스(Ubiquitous)

21. 다음 설명에 해당하는 작물은?

○ 세계 3대 식량 작물로 라틴 아메리카가 원산지이다.  
○ 사료용 및 바이오에탄올의 원료로 수요가 증가하고 있다.

- ① 밀
- ② 쌀
- ③ 옥수수
- ④ 사탕수수

22. 자료에 나타난 ○○○ 국가의 인구 특성으로 적절한 것을 <보기>에서 고른 것은?



<보기>  
 ㄱ. 출생률이 높다.  
 ㄴ. 사망률이 높다.  
 ㄷ. 기대 수명이 높다.  
 ㄹ. 총인구가 감소한다.

- ① ㄱ, ㄴ
- ② ㄱ, ㄹ
- ③ ㄴ, ㄷ
- ④ ㄷ, ㄹ

23. 다음 설명에 공통으로 해당하는 지역 경제 협력체는?

○ 우리나라와 자유 무역 협정을 체결하였다.  
○ 1967년에 결성되었으며, 현재 동남아시아 10개국이 회원국이다.

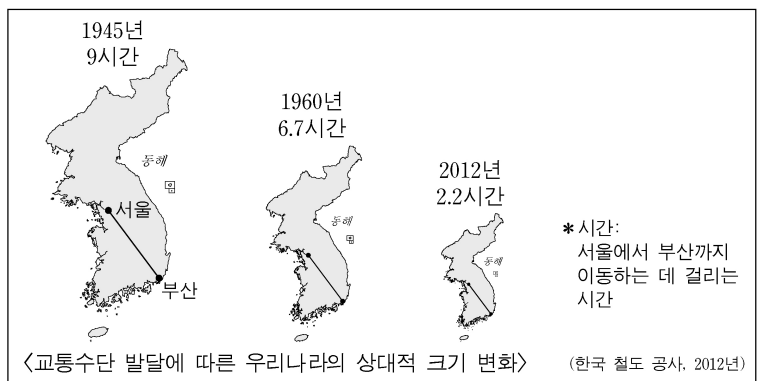
- ① APEC
- ② ASEAN
- ③ EU
- ④ NAFTA

24. 종교적 갈등에 의한 분쟁 지역으로 옳은 것을 <보기>에서 고른 것은?

<보기>  
 ㄱ. 카슈미르 분쟁                      ㄴ. 카스피해 분쟁  
 ㄷ. 쿠릴 열도 분쟁                    ㄹ. 북아일랜드 분쟁

- ① ㄱ, ㄴ
- ② ㄱ, ㄹ
- ③ ㄴ, ㄷ
- ④ ㄷ, ㄹ

25. 지도는 교통수단의 발달에 따른 우리나라의 상대적 크기 변화를 나타낸 것이다. 이를 보고 추론한 내용으로 적절하지 않은 것은?



- ① 지역 간 접근도가 낮아졌을 것이다.
- ② 서울의 통근권이 확대되었을 것이다.
- ③ 교통로 건설로 환경 파괴 문제가 발생했을 것이다.
- ④ 공간적 제약의 감소로 인구 이동이 활발해졌을 것이다.