


1. 다음 설명에 해당하는 위치 표현 방법은?

- 어떤 지역을 대표하는 사물로, 주위의 경관 중에서 눈에 잘 띄는 것이다.
- 이집트의 피라미드, 서울의 광화문 등을 예로 들 수 있다.

- ① 위도      ② 경도      ③ 랜드마크      ④ 행정 구역

2. 편지를 쓴 사람이 여행하고 있는 지역의 기후는?

수진아 안녕?   
 벌써 여행 10일째야, 오늘은 세렝게티 국립공원에서 사파리 여행을 했어. 듽성듬성하게 숲이 있고 긴 풀들이 나 있었는데 그 곳에서 많은 초식 동물과 육식 동물을 보았어.

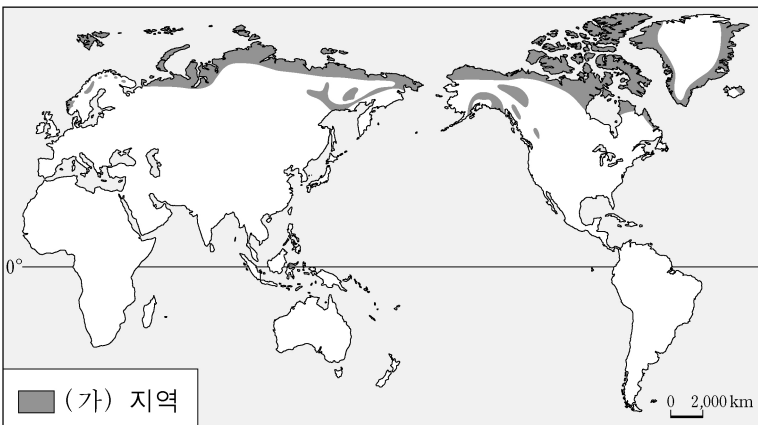
- ① 냉대 기후                      ② 지중해성 기후  
 ③ 열대 우림 기후                ④ 열대 사바나 기후

3. (가)에 해당하는 사례로 가장 적합한 도시는?

(가)은/는 대도시 주변에 위치하면서 대도시의 인구와 기능을 분담하는 역할을 한다.

- ① 성남      ② 부산      ③ 전주      ④ 울산

4. (가) 지역의 인구밀도가 낮은 원인은?



- ① 험준한 산지                      ② 열대 밀림 지역  
 ③ 매우 추운 기후                ④ 매우 건조한 기후

5. 에너지 자원 중 석탄에 대한 설명으로 옳지 않은 것은?

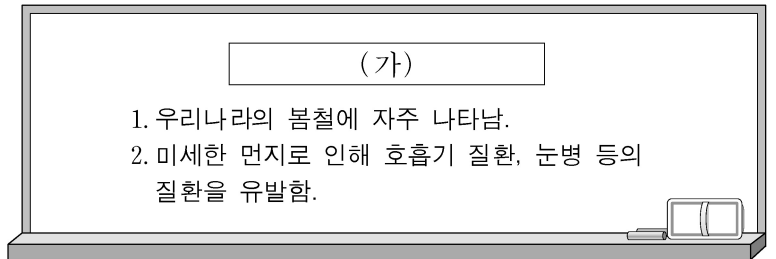
- ① 산업 혁명의 원동력이 된 자원이다.
- ② 제철소와 화력발전소의 연료로 주로 사용된다.
- ③ 사용 과정에서 방사성 물질의 누출 위험이 있다.
- ④ 과거 우리나라의 겨울철 난방 연료로 널리 사용되었다.

6. 다음 설명에 공통적으로 해당하는 자연재해는?

- 해저지진의 결과로 발생한다.
- 엄청난 양의 바닷물로 인해 발생하는 압력과 높은 파도로 인명 피해, 항만 시설과 제방 파괴 등의 피해가 있다.

- ① 태풍      ② 홍수      ③ 산사태      ④ 지진 해일

7. (가)에 들어갈 환경문제는?



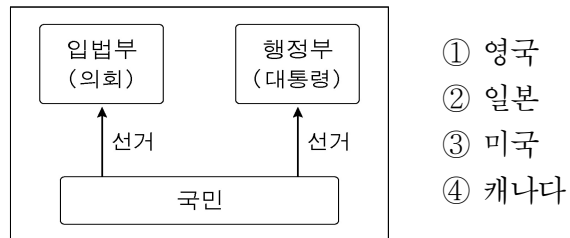
- ① 황사                              ② 산성비  
 ③ 열대림 파괴                    ④ 오존층 파괴

8. 다음 설명에 공통적으로 해당하는 산은?

- 우리나라 산줄기의 시작점이다.
- 화산 폭발로 형성된 칼데라 호가 있다.
- 우리 국토와 중국의 국경을 이루고 있다.

- ① 금강산      ② 백두산      ③ 지리산      ④ 한라산

9. 그림과 같이 구성되는 정부 형태에 해당하는 국가는?



10. 다음 설명에 해당하는 정치 주체는?

정치적 견해를 같이하는 사람들이 정치권력의 획득을 목표로 결성한 조직이다. 선거에 후보자를 추천하고, 국민의 심판을 통해 정치적 책임을 진다.

- ① 언론      ② 정당      ③ 이익 집단      ④ 시민 단체

11. 다음의 제도들이 공통적으로 추구하는 목적은?

- 선거 공영제      ○ 선거구 법정주의      ○ 선거 관리 위원회

- ① 공정한 선거                      ② 인물 중심의 선거  
 ③ 선거 절차의 간소화              ④ 다원적 이익 표출의 제한

12. 다음에 나타난 매체의 특징으로 옳은 것은?

- 인터넷상에서 UCC(사용자 제작 콘텐츠)를 제작하여 전 세계 사람들과 공유한다.
- SNS(소셜 네트워크 서비스)를 이용하여 정보를 만들고 유통한다.

- ① 쌍방향 의사소통이 가능하다.  
 ② 시간과 공간의 제약을 크게 받는다.  
 ③ 인쇄 매체에 비해 정보의 전달 속도가 느다.  
 ④ 대중문화의 형성과 발달에 미치는 영향이 적다.

13. 다음 설명과 같은 배경으로 등장한 법은?


자본주의가 발달하면서 빈부 격차, 노사 갈등 등 사회문제가 발생하자 개인 간의 생활 영역에 국가가 개입하여 사회적 약자를 보호할 필요성이 점차 커졌다.

- ① 형법      ② 사법      ③ 행정법      ④ 사회법

14. 두 사람이 공통적으로 침해를 당했다고 주장하는 기본권은?

OO미용 고등학교에서 신입생 지원 자격을 여학생만으로 제한하여 그 학교에 입학하지 못했어요.

나도 능력과 상관없이 여자라는 이유로 승진에서 불이익을 받은 경험이 있어요.



- ① 참정권      ② 평등권      ③ 청구권      ④ 자유권

15. (가)에 들어갈 경제 개념으로 적절한 것은?

(가)은 어떤 것을 선택함으로써 포기하는 가치 중에 가장 큰 것이다. 음식점에서 짜장면과 짬뽕 사이에서 고민하다가 짜장면을 선택했다면 짬뽕을 먹었을 때의 만족감이 그 예에 해당한다.

- ① 편익      ② 희소성      ③ 기회비용      ④ 매물 비용

16. 신문에서 설명된 상황이 발생했을 때 가장 유리한 사람은?  
(단, 다른 조건은 일정하다고 가정한다.)

**○○ 일보**      ○○○○년 ○○월 ○○일

최근 우리나라 시장에서 물가가 매우 높은 수준으로 꾸준히 상승하였습니다.

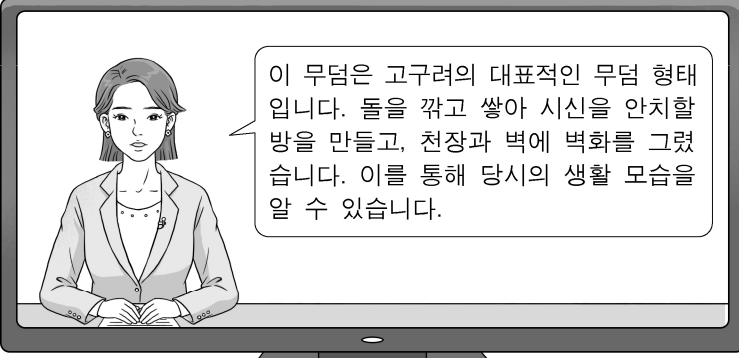
- ① 은행에 예금한 사람  
② 부동산이나 금과 같은 실물 자산 소유자  
③ 1년 동안 고정된 액수를 월급으로 받는 직장인  
④ 매달 고정적인 연금을 받아 생활하는 70대 노인

17. 다음 설명에 해당하는 나라는?

○ 10월에 무천이라는 제천 행사를 열었다.  
○ 다른 부족의 영역을 침범하면 노비와 소, 말 등으로 배상해야 하는 책화의 풍습이 있었다.

- ① 동예      ② 신라      ③ 고려      ④ 조선

18. 아나운서의 설명에 해당하는 것은?



이 무덤은 고구려의 대표적인 무덤 형태입니다. 돌을 깎고 쌓아 시신을 안치할 방을 만들고, 천장과 벽에 벽화를 그려줍니다. 이를 통해 당시의 생활 모습을 알 수 있습니다.

- ① 움집      ② 고인돌  
③ 독무덤      ④ 굴식 돌방무덤

19. 다음 설명에 해당하는 것은?

고려 시대에 몽골이 침략하자, 부처의 힘으로 국난을 극복하고자 하는 염원에서 제작되었다. 현재 국보 제32호로 지정되어 있으며 해인사에 보관 중이다.

- ① 칠지도      ② 비파형 동검  
③ 호우명 그릇      ④ 팔만대장경판

20. 다음 설명에 해당하는 조선의 왕은?

○ 명과 후금 사이에 중립 외교를 추진하였다.  
○ 농민의 부담을 줄여주기 위해 대동법을 실시하였다.

- ① 영조      ② 세종      ③ 광해군      ④ 연산군

21. 밑줄 친 '이 사람'이 저술한 책은?

이 사람은 북학파의 대표적인 학자로서 청의 선진 문물을 적극 수용할 것을 주장하였다. 또한 수레와 선박, 화폐를 이용한 상공업을 진흥해야 한다고 하였다.


- ① 열하일기      ② 농사직설      ③ 동의보감      ④ 삼국사기

22. 교사의 질문에 대한 학생의 답으로 가장 적절한 것은?

**<신문왕의 정책>**

- 국학 설립
- 관료전 지급
- 9주 5소경 정비

신문왕이 이러한 정책을 실시한 목적은 무엇일까요?



- ① 불교를 공인하고자 하였어요.  
② 신분제도를 폐지하고자 하였어요.  
③ 봉당의 폐단을 없애고자 하였어요.  
④ 강력한 왕권을 확립하고자 하였어요.

23. 다음 설명에 해당하는 운동은?

일본에 진 빚 1,300만 원을 갚고 국권을 지키기 위해 1907년 농민, 상인, 부녀자 등 다양한 계층이 참여하여 금주, 금연으로 돈을 모으고 비녀와 반지 등을 성금으로 냈다.

- ① 형평 운동      ② 국채 보상 운동  
③ 6·10 만세 운동      ④ 광주 학생 항일 운동

24. 다음 설명에 해당하는 단체는?

○ 1940년 대한민국 임시 정부가 창설한 부대  
○ 일제가 태평양 전쟁을 일으키자 연합군과 공동 작전 수행

- ① 신민회      ② 보안회  
③ 별기군      ④ 한국광복군

25. 4·19 혁명의 배경으로 옳은 것을 <보기>에서 고른 것은?

<보기>

ㄱ. 3·15 부정 선거      ㄴ. 유신 체제의 성립  
ㄷ. 5·16 군사 정변      ㄹ. 이승만의 장기 집권

- ① ㄱ, ㄴ      ② ㄱ, ㄹ      ③ ㄴ, ㄷ      ④ ㄷ, ㄹ