

제 6 교시

기술 · 가정

1. 다음 설명에 해당하는 용어는?

청소년기에는 가능한 상황을 설정하고 체계적으로 생각하며 조합할 수 있다.

- ① 동조성                      ② 양성성
- ③ 개인적 우화                ④ 조합적 사고

2. 바람직한 성 행동에 해당하는 것을 <보기>에서 고른 것은?

<보기>

ㄱ. 원하지 않는 신체 접촉을 당할 때 싫어도 참는다.  
 ㄴ. 성적인 행동을 거절할 때는 분명하게 의사표시를 한다.  
 ㄷ. 내가 원한다고 상대방도 원할 것으로 생각하지 않는다.  
 ㄹ. 성적 행동을 요구했을 때 상대방의 저항을 나의 요구에 동의하는 것으로 받아들인다.

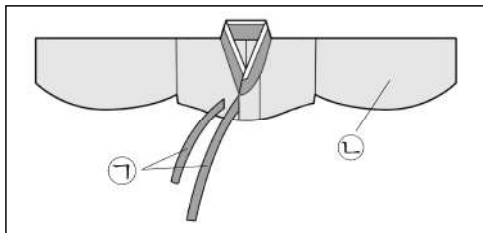
- ① ㄱ, ㄴ                      ② ㄱ, ㄹ
- ③ ㄴ, ㄷ                      ④ ㄷ, ㄹ

3. 다음 설명에 공통으로 해당하는 영양소는?

- 산소를 운반하는 역할을 한다.
- 부족하면 빈혈이 발생할 수 있다.
- 혈액 내 헤모글로빈의 구성 성분이다.

- ① 물                          ② 철
- ③ 단백질                    ④ 탄수화물

4. 그림에서 ㉠과 ㉡의 명칭이 바르게 짝지어진 것은?



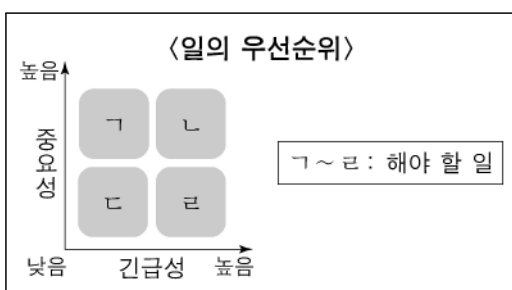
- |   |    |    |
|---|----|----|
|   | ㉠  | ㉡  |
| ① | 고름 | 깃  |
| ② | 고름 | 소매 |
| ③ | 동정 | 깃  |
| ④ | 동정 | 소매 |

5. 다음 설명에 해당하는 주거의 조건은?

가족의 개성이 표현된 아름다운 공간이어야 한다.

- ① 경제성                      ② 심미성
- ③ 안전성                      ④ 쾌적성

6. 다음에서 가장 마지막에 해야 할 일은?



- ① ㄱ
- ② ㄴ
- ③ ㄷ
- ④ ㄹ

7. 다음 설명에 해당하는 소비 형태는?



- ① 동조 소비                    ② 모방 소비
- ③ 보상 소비                    ④ 충동 소비

8. 의사소통할 때 경청의 방법으로 옳지 않은 것은?

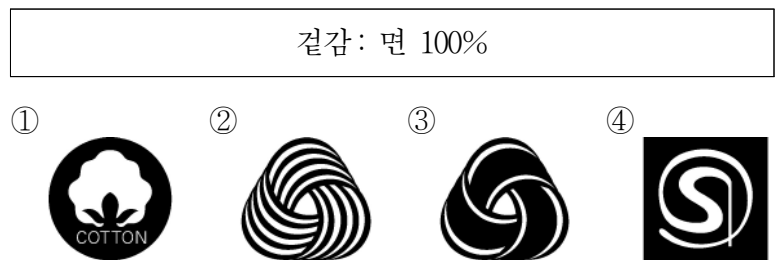
- ① 상대방의 말을 집중해서 듣는다.
- ② 공감을 표시하는 등 적절한 반응을 보인다.
- ③ 상대방의 처지에서 내용과 감정을 이해한다.
- ④ 상대방의 말을 중간에 가로막으며 결론을 내려 준다.

9. 다음 설명에 해당하는 것은?

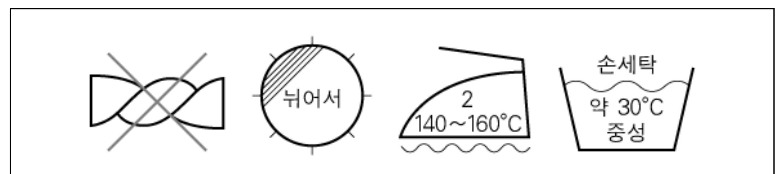
합성 농약과 화학 비료를 사용하지 않고 재배한 농산물에 부여하는 제도이다.

- ① KS 인증 제도                ② 의료 보장 제도
- ③ 영양 성분 표시 제도        ④ 유기 농산물 인증 제도

10. 다음 설명에 해당하는 섬유 공인 기호는?



11. 그림과 같은 품질표시가 있는 의복의 취급 방법으로 옳지 않은 것은?



- ① 비틀어 짤다.
- ② 그늘에 뉘어서 건조한다.
- ③ 형질을 덮고 140~160°C에서 다룬다.
- ④ 약 30°C의 물에서 중성세제를 사용하여 손세탁한다.

12. 다음 설명에 공통으로 해당하는 용어는?

- 창이나 문을 통해 자연적으로 바람이 들어오고 나가는 것을 말한다.
- 창과 문이 서로 마주 보는 위치에 있으면 효과가 크다.

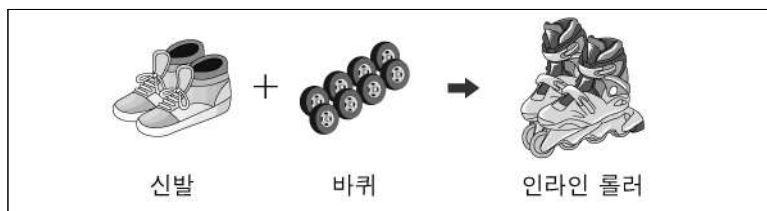
- ① 결로      ② 소음      ③ 채광      ④ 통풍

13. 다음 설명에 공통으로 해당하는 복지 제도는?

- 근로자의 형편에 따라 적절하게 근무시간을 조절할 수 있다.
- 재택 근무제, 시차 출근제 등이 있다.

- ① 보육료 지원 제도      ② 탄력적 근무 제도  
③ 가족 돌봄 휴직 제도      ④ 출산 전후 휴가 제도

14. 그림에 해당하는 ‘스캐퍼 기법’은?



- ① 결합      ② 제거      ③ 축소      ④ 거꾸로 하기

15. 다음 설명에 공통으로 해당하는 한옥의 구조는?

- 실내로 들어오는 햇볕의 양을 조절한다.
- 한옥에서 지붕이 기둥 밖으로 나와 있는 부분이다.

- ① 기단      ② 마루      ③ 온돌      ④ 처마

16. 토목 구조물에 해당하는 것은?

- ① 도로      ② 병원      ③ 학교      ④ 호텔

17. 단방향 통신에 해당하는 것은?

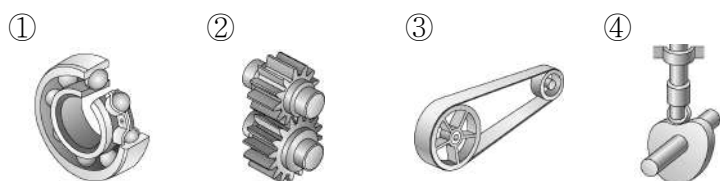
- ① 팩스      ② 인터넷      ③ 휴대전화      ④ 종이 신문

18. 정보 통신 기술의 발달 과정을 바르게 배열한 것은?

- ① 유선통신 → 인터넷 → 인쇄술  
② 인쇄술 → 유선통신 → 인터넷  
③ 인쇄술 → 인터넷 → 유선통신  
④ 인터넷 → 인쇄술 → 유선통신

19. 다음 설명에 공통으로 해당하는 것은?

- 마찰차의 접촉면에 틱니를 만든 기계요소이다.
- 틱니에 따라 다양한 동력을 전달한다.



20. 대화에서 (가)에 공통으로 들어갈 용어는?

A: 농민들에게 씨감자를 많이 보급하고 싶은데.

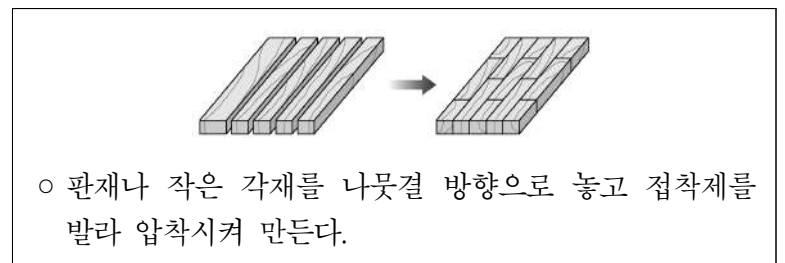
B: (가)이 있잖아.

A: 그게 뭐야?

B: (가)은 생물체 조직의 일부를 떼어 내어 영양 배지에서 배양하여 증식시키는 기술이야.

- ① 핵 이식      ② 세포 융합  
③ 조직 배양      ④ 유전자 재조합

21. 다음 설명에 해당하는 것은?



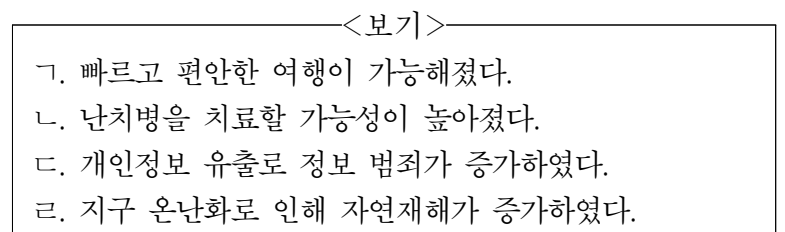
- ① 원목      ② 아크릴      ③ 집성재      ④ 화강암

22. 다음 설명에 해당하는 것은?

가솔린 기관의 4행정 사이클 중 혼합기체가 불꽃점화에 의해 폭발하여 피스톤이 아래로 밀려나는 단계이다.

- ① 흡입      ② 압축      ③ 폭발      ④ 배기

23. 기술 발달의 긍정적인 영향을 <보기>에서 고른 것은?



- ① ㄱ, ㄴ      ② ㄱ, ㄷ      ③ ㄴ, ㄹ      ④ ㄷ, ㄹ

24. 다음 설명에 해당하는 것은?

어떤 특정한 환경, 상황 등을 컴퓨터로 만들어 실제 상황인 듯 경험할 수 있게 하는 정보 통신 기술

- ① GPS      ② 와이파이      ③ 가상 현실      ④ 나노 로봇

25. 다음 설명에 공통으로 해당하는 것은?

- 구리와 주석의 합금이다.
- 주조성과 내마멸성이 우수하다.

- ① 청동      ② 합판      ③ 알루미늄      ④ 플라스틱