

제 ③ 교시

실과

1. 다음 아동기의 발달 특징에 해당하는 것은?

- 운동 능력이 발달한다.
- 키가 커지고 몸무게가 늘어난다.

- ① 사회적 발달 ② 신체적 발달
- ③ 인지적 발달 ④ 정서적 발달

2. 다음 설명에 해당하는 환경 요소는?

- 식물이 호흡하는 데 산소를 공급한다.
- 식물이 자라는 데 이산화 탄소를 공급한다.

- ① 물 ② 흙 ③ 공기 ④ 햇빛

3. 다음 설명과 같은 방법으로 기르는 애완동물은?

- 돌과 수초로 꾸민 어항에서 키운다.
- 어항의 물을 주 1회 정도, 물 양의 1/3을 갈아 준다.

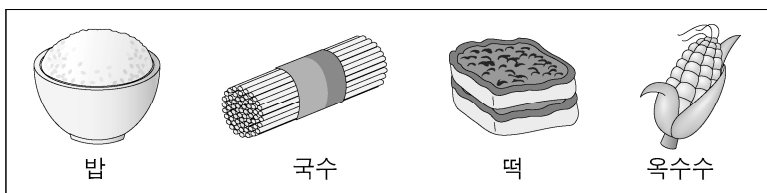
- ① 토끼 ② 고양이
- ③ 열대어 ④ 햄스터

4. 다음 ㉠과 ㉡에 해당하는 식품으로 알맞은 것은?

- 곡 류: (㉠)
- 과일류: (㉡)

- | | |
|------|----|
| ㉠ | ㉡ |
| ① 빵 | 사과 |
| ② 두부 | 달걀 |
| ③ 달걀 | 빵 |
| ④ 사과 | 두부 |

5. 그림의 식품에 공통으로 가장 많이 들어 있는 영양소는?



- ① 지방 ② 단백질
- ③ 비타민 ④ 탄수화물

6. 다음 설명에 해당하는 것은?

- 입지 않는 옷으로 가방을 만들어 사용한다.
- 버리는 우유 팩을 양말 정리함으로 활용한다.

- ① 재활용하기
- ② 규칙적인 운동하기
- ③ 대중교통 이용하기
- ④ 음식물 남기지 않기

7. 다음 중 안전사고를 예방하는 방법으로 적절하지 않은 것은?

- ① 가스 사용 후 밸브를 꼭 잠근다.
- ② 전기 제품은 젖은 손으로 만진다.
- ③ 자전거를 탈 때에는 안전모를 쓴다.
- ④ 물놀이를 하기 전에는 준비 운동을 한다.

8. 다음 중 용돈 기입장에서 수입에 해당하는 내용은?

- ① 음식을 먹고 지불한 돈
- ② 연필을 구입하는 데 쓴 돈
- ③ 심부름을 한 후 받은 용돈
- ④ 부모님의 생신 선물을 구입한 돈

9. 다음 ㉠과 ㉡에 들어갈 재활용품으로 알맞은 것은?



- | | |
|---------|-------|
| ㉠ | ㉡ |
| ① 신문지 | 페트병 |
| ② 페트병 | 유리병 |
| ③ 유리병 | 음료수 캔 |
| ④ 음료수 캔 | 신문지 |


10. 다음 ㉠에 들어갈 자전거의 구성 요소는?



발의 힘으로 (㉠)을/를 밟으면 체인이 돌아가고 자전거가 앞으로 나간다.

- ① 안장 ② 페달
- ③ 전조등 ④ 브레이크

11. 다음 설명에 해당하는 것은?



- 주로 사람이 먹을 목적으로 가꾸는 식량 작물이다.
- 밥을 지어 먹는 데 이용한다.

- ① 벼 ② 목화
- ③ 닳나무 ④ 산세비에리아


12. 식생활에 해당하는 일을 <보기>에서 고른 것은?

<보기>

ㄱ. 세탁하기	ㄴ. 요리하기
ㄷ. 상 차리기	ㄹ. 다림질하기

- ① ㄱ, ㄴ ② ㄱ, ㄹ ③ ㄴ, ㄷ ④ ㄷ, ㄹ

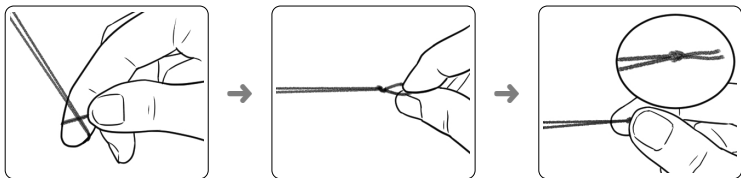
13. 다음 설명에 해당하는 바느질 도구는?



- 옷감을 자를 때 사용한다.
- 날이 길고 날카로우니 주의하여 사용한다.

- ① 가위 ② 골무
- ③ 바늘 ④ 시침 핀

14. 다음 설명에 해당하는 것은?



가. 오른손 집게손가락에 실을 한 바퀴 감는다.
나. 실 끝을 밀어 넣고 엄지손가락으로 비벼 묶는다.
다. 매듭을 실 끝 방향으로 당겨 준다.


- ① 흡질 ② 박음질
- ③ 시침질 ④ 시작 매듭짓기

15. 다음 설명에서 알 수 있는 식품 정보는?

- 실온에 두도록 합니다.
- 직사광선이나 고온 다습한 곳을 피합니다.

- ① 원산지 ② 보관 방법
- ③ 영양 성분 ④ 식품 인증 표시

16. 다음 설명에 해당하는 음식은?



- 버섯, 당근, 오이, 상추, 볶은 고기 등을 준비한다.
- 밥 위에 재료를 담고 고추장을 곁들여 낸다.

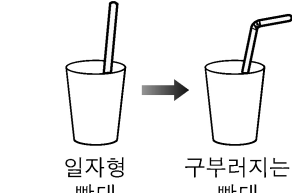
- ① 국수 ② 냉면
- ③ 만둣국 ④ 비빔밥

17. 다음 ㉠에 들어갈 말로 알맞은 것은?

(㉠)은/는 온라인 게임, 인터넷 등을 지나치게 사용하여 일상생활에 지장을 받는 상태이다.

- ① 개인 정보 ② 지식 재산
- ③ 소프트웨어 ④ 사이버 중독

18. 그림에 적용된 발명 기법은?



일자형 빨대 → 구부러지는 빨대

- ① 빼기 기법
- ② 모양 바꾸기 기법
- ③ 재료 바꾸기 기법
- ④ 크기 바꾸기 기법

19. 다음 중 병원에서 환자의 수술과 치료에 사용하는 로봇은?

- ① 청소 로봇 ② 의료용 로봇
- ③ 우주 탐사 로봇 ④ 산업용 용접 로봇

20. 다음 설명에 해당하는 직업 정보를 얻는 방법은?

동물 병원에 가서 수의사를 만나 그 직업에 대해 자세히 물어본다.

- ① 직업인 면담하기
- ② 직업 관련 서적 찾기
- ③ 인터넷 진로 인식 검사하기
- ④ 학교에서 전문 직업인 초청 강연 듣기