

# 제 4 교시 사회

1. 다음에서 설명하는 기본권으로 가장 적절한 것은?

- 국가 권력으로부터 간섭받지 않고 자유롭게 생활할 권리
- 외부의 구속과 강제를 받지 않고 자신의 의지에 따라 스스로 선택할 수 있는 권리

- ① 사회권    ② 자유권    ③ 참정권    ④ 청구권

2. 다음에서 설명하는 개념은?

- 개인 또는 집단이 사회생활을 하면서 서로 주고받는 행위이다.
- 협동, 경쟁, 갈등 등으로 유형화 할 수 있다.

- ① 가치관                            ② 실업률  
③ 다국적 기업                    ④ 사회적 상호 작용

3. 다음 중 ㉠에 들어갈 말로 가장 적절한 것은?

### <'여성 고용 할당제'에 대한 찬반 토론>

찬성 측

사회로부터 차별받아 온 여성에 대해 그동안의 불이익을 보상해 주는 제도이므로 찬성합니다.

반대 측

하지만 여성 채용 비율이 지나치게 높아 오히려 남성들이 불이익을 받는 ( ㉠ )이 발생하므로 반대합니다.



- ① 과소비    ② 역차별    ③ 익명성    ④ 텔레뱅킹

4. 가치 판단에 해당하는 것을 <보기>에서 고른 것은?

### <보기>

- ㄱ. 경복궁은 서울에 있다.
- ㄴ. 영희는 고등학교 2학년이다.
- ㄷ. 겨울철 눈 덮인 한라산은 아름답다.
- ㄹ. 환경 보호가 경제 발전보다 더 중요하다.

- ① ㄱ, ㄴ    ② ㄱ, ㄷ    ③ ㄴ, ㄹ    ④ ㄷ, ㄹ

5. 다음 중 ㉠, ㉡에 해당하는 것을 알맞게 짝지은 것은?

### 경제신문

○○○○년 ○○월 ○○일

#### 원/달러 환율 급등!

어제 1달러당 1,100원이던 원/달러 환율이 오늘은 1달러당 1,300원으로 급등했다. 이러한 환율 상승은 달러화 대비 원화 가치 ( ㉠ )을 의미한다. 예컨대 어제는 2달러와 2,200원이 교환되었다면, 오늘은 2달러와 ( ㉡ )이 교환된다.

- ㉠                            ㉡                            ㉠                            ㉡  
① 상승    2,600원                    ② 상승    3,900원  
③ 하락    2,600원                    ④ 하락    3,900원

6. 다음 중 '근로 3권'에 해당하는 것은?

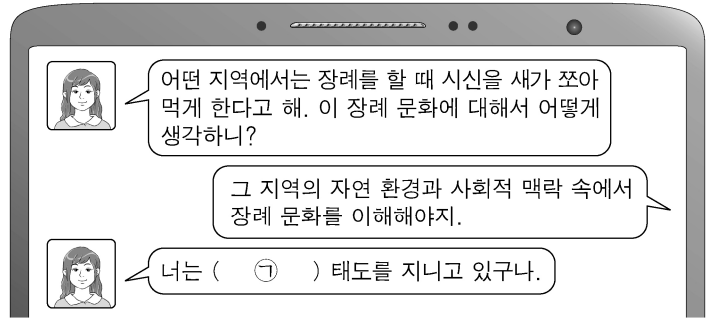
- ① 단결권                            ② 선거권  
③ 공무 담임권                    ④ 재판 청구권

7. 다음에서 설명하는 것은?

- 일정 금액의 돈을 일정 기간 금융 기관에 맡기는 것이다.
- 정해진 이자 수익이 있으며, 특정 한도 내에서 원금을 보호하는 제도가 있다.

- ① 예금    ② 신용    ③ 직업    ④ 채무

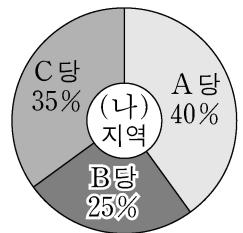

8. 다음 중 ㉠에 들어갈 말로 가장 적절한 것은?



- ① 문화 상대주의                    ② 문화 사대주의  
③ 문화 절대주의                    ④ 자문화 중심주의

9. 자료에 대한 해석으로 옳은 것은?

### <2000년 지역별 정당 지지율>



- ① (가), (나)지역 모두 A당 지지율이 가장 낮다.  
② B당 지지율은 (가)지역이 (나)지역보다 더 높다.  
③ C당 지지율은 (나)지역이 (가)지역의 3배 이상이다.  
④ 시간의 흐름에 따른 지역별 정당 지지율 변화를 알 수 있다.

10. 다음 중 ㉠에 해당하는 것으로 옳은 것은?



제가 말한 ( ㉠ )은 기술 혁신을 통한 창조적 파괴입니다. 국가의 경제와 사회가 건강하게 발전하기 위해서는 ( ㉠ )을 가진 사람들이 필요하죠. 또한 ( ㉠ )은 창업자에게 더욱 필요한 자세이기도 합니다.

슈페터(Schumpeter, J. A.)

- ① 임금 체불                            ② 특권 의식  
③ 기업가 정신                            ④ 애그플레이션

11. 다음에서 설명하는 투자 개념으로 가장 적절한 것은?

- 투자의 안전성을 위해 포트폴리오를 구성하여 다양한 금융 자산에 투자하는 것이다.
- '계란을 한 바구니에 모두 담지 마라'는 말로 비유한다.

- ① 분산 투자    ② 벤처 투자    ③ 집중 투자    ④ 총동 투자

12. 다음 중 개인의 권리와 국가 정책 간의 갈등을 해결하기 위한 방안으로 적절하지 않은 것은?

- ① 정책을 시행하기 전에 충분한 협의 절차를 거친다.
- ② 서로 다른 이해관계를 조정하려는 타협의 자세를 가진다.
- ③ 국가는 물리적 강제력을 내세워 개인의 권리를 최대한 제한한다.
- ④ 정책 시행으로 손해를 입게 된 개인에게 적절한 보상 대책을 강구한다.

13. 다음에서 설명하는 것은?

○ 일상에서 정신적, 신체적, 경제적, 사회적으로 느끼는 행복한 정도를 의미한다.  
 ○ 고용 안정, 복지 제도, 깨끗한 환경 등의 보장으로 높일 수 있다.

- ① 삶의 질   ② 역할 갈등
- ③ 하우스 푸어                                   ④ 상대적 박탈감

14. 다음 중 교통과 통신의 발달로 나타나는 특징으로 적절하지 않은 것은?

- ① 인간의 공간 인식이 확대된다.
- ② 지역 간의 상호 작용이 활발해진다.
- ③ 많은 양의 정보를 주고받을 수 있다.
- ④ 산업 구조의 중심이 2차에서 1차 산업으로 바뀐다.

15. 다음에서 설명하는 자원은?

○ 18세기 산업 혁명의 원동력으로 증기 기관의 연료로 사용되었다.  
 ○ 주로 고생대 지층에 매장되어 있으며 제철 공업의 원료로 이용되는 화석 연료이다.

- ① 구리   ② 석탄
- ③ 희토류   ④ 천연가스

16. 다음에서 설명하는 것은?

○ 자유 무역의 확대와 세계 교역을 촉진하는 역할을 수행함.  
 ○ 관세 인하 요구 및 통상 분쟁 조정 등의 법적 구속력을 가지고 있음.

- ① 소호(SOHO)                                 ② 비정부 기구(NGO)
- ③ 유네스코(UNESCO)                       ④ 세계 무역 기구(WTO)

17. 다음 중 ㉠, ㉡에 해당하는 식량 자원으로 가장 적절한 것은?

○ ( ㉠ ): 아시아 계절풍 지역의 대표적인 주식 작물이 이 지역이 대소비지이다.  
 ○ ( ㉡ ): 사료 작물과 바이오 연료의 원료로 이용되고, 주로 아메리카 대륙에서 생산된다.

- ① ㉠ 밀   ② ㉠ 쌀   ③ ㉡ 옥수수                                     ④ ㉡ 쌀
- ③ ㉡ 옥수수                                     ④ ㉠ 밀   ⑤ ㉡ 옥수수                                     ⑥ ㉡ 옥수수

18. 개발 제한 구역을 설정한 목적으로 옳은 것을 <보기>에서 고른 것은?

—<보기>—  
 가. 도시 녹지 환경 보전  
 나. 도시 내 시가지 개발  
 다. 도시의 무분별한 팽창 방지  
 르. 도시 내 각종 산업 시설 용지 확보

- ① 가, 나   ② 가, 다   ③ 나, 르   ④ 다, 르

19. 다음에서 설명하는 개념은?

지하철역, 행정 기관 등과 같이 지역 발전에 도움이 되는 시설을 자기 지역에 유치하려는 현상

- ① 열섬 현상                                     ② 님비(NIMBY) 현상
- ③ 펌피(PIMFY) 현상                       ④ 바나나(BANANA) 현상

20. 다음에서 설명하는 것으로 가장 적절한 것은?

○ 원리: 인공위성에서 보내온 신호를 종합하여 현재의 위치 측정  
 ○ 활용: 길 찾기, 자동차의 자동 항법 장치, 해발 고도 파악

- ① 로하스(LOHAS)                           ② 바우처(VOUCHER)
- ③ 유비쿼터스(Ubiquitous)               ④ 위치 정보 시스템(GPS)

21. 다음 중 ㉠에 들어갈 국제 환경 협약은?

< ㉠ >  
 ○ 1992년 브라질의 리우데자네이루에서 개최함.  
 ○ 지구 온난화를 방지하기 위해 온실 가스 감축에 합의함.

- ① 런던 협약                                   ② 바젤 협약
- ③ 람사르 협약                                 ④ 기후 변화 협약

22. 다음 내용에 공통으로 해당하는 인구 이동의 요인은?

○ 개발 도상국에서 더 높은 소득을 위해 선진국으로 이동한다.  
 ○ 라틴 아메리카 사람들이 일자리를 찾아 미국 서남부 지역으로 이동한다.

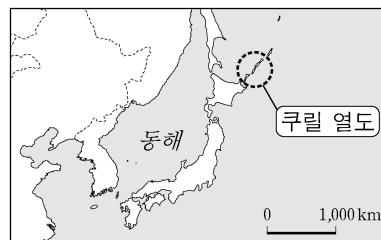
- ① 경제적 요인                                 ② 정치적 요인
- ③ 종교적 요인                                 ④ 자연 환경 요인

23. 다음 내용에 해당하는 사례로 가장 적절한 것은?

우리 선조들의 풍습에는 '고수레'가 있다. 야외에서 식사를 할 때 '고수레'라고 외치며 첫 손가락의 음식을 자연의 생물들과 나눠 먹는 것이 자연에 대한 예의라고 여겼다.

- ① 농경지 확보를 위해 벌목했다.
- ② 작물 재배를 위해 숲에 불을 질렀다.
- ③ 공업 단지 조성을 위해 갯벌을 메워 간척지를 만들었다.
- ④ 야생 동물 서식지를 보호하기 위해 생태 통로를 만들었다.

24. 지도에 ○로 표시된 지역에서 영토 분쟁 중인 두 나라는?



- ① 중국 - 러시아
- ② 중국 - 필리핀
- ③ 이란 - 이라크
- ④ 일본 - 러시아

25. 다음 중 ㉠에 들어갈 용어로 가장 적절한 것은?

< ㉠ >  
 ○ 정의: 국가 간의 상호 의존성이 높아지고 국경을 초월하여 하나의 지구촌으로 통합되어 가는 과정이다.  
 ○ 사례: K-Pop이 유럽에서 유행하고 있다. 베트남 쌀국수를 우리나라에서 접할 수 있다.

- ① 도시화   ② 양극화   ③ 세계화   ④ 지역화