

# 제 4 교시 사회

1. 다음에서 설명하는 기후는?

- 사막과 초원으로 구성되어 있음.
- 연 강수량 500 mm 미만이고, 기온의 일교차가 큼.
- 전통적으로 오아시스 주변의 농업이나 유목이 발달함.

- ① 열대 기후 ② 건조 기후 ③ 온대 기후 ④ 냉대 기후

2. 다음 중 ㉠에 들어갈 말로 가장 적절한 것은?

1960년대 이후 공업화로 우리나라 경제가 빠르게 성장하면서 농촌의 인구가 일자리를 찾아 도시로 이동하는 ㉠이 나타났다.

- ① 슬로시티 ② 국제 이동  
③ 성비 불균형 ④ 이촌 향도 현상

3. 다음 설명에 해당하는 지역으로 가장 적절한 것은?

- 주·야간 인구 차이가 큰 인구 공동화 현상이 나타남.
- 한 도시의 중심에 위치하고, 교통이 편리하며 고층 건물이 밀집되어 있음.
- 주요 관공서, 은행 본점, 고급 백화점, 대기업 본사 등 상업 및 업무 기능이 밀집된 중심 업무 지구임.

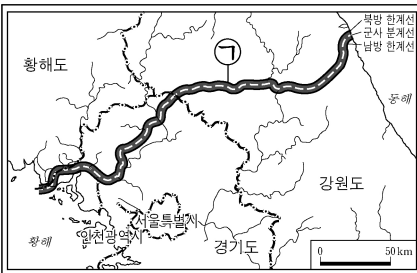
- ① 농촌 ② 도심  
③ 외곽 지역 ④ 개발 제한 구역

4. 다음과 같은 특성이 나타나는 문화 지역은?

- 유교와 불교 문화가 발달함.
- 한자를 사용하는 문화 지역임.
- 쌀을 주식으로 하여 벼농사가 발달함.

- ① 동아시아 문화 지역 ② 아프리카 문화 지역  
③ 오세아니아 문화 지역 ④ 라틴아메리카 문화 지역

5. 그림의 ㉠이 가리키는 것은?



- 군사적 충돌을 막기 위하여 군대와 무기의 배치가 금지되어 있음.
- 6·25 전쟁이 끝날 무렵 휴전 협정에 의해 만들어짐.

- ① 영해선 ② 백두대간  
③ 비무장 지대(DMZ) ④ 배타적 경제 수역(EEZ)

6. 다음 중 태양광 발전소의 입지 장소로 가장 적절한 곳은?

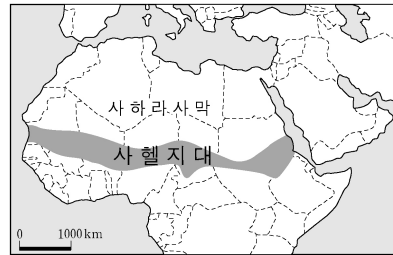
- ① 바람이 강한 곳 ② 일사량이 많은 곳  
③ 강수량이 많은 곳 ④ 밀물과 썰물의 차가 큰 곳

7. 다음에서 설명하는 도시는?

- 전라남도에 있는 도시임.
- ‘○○만 국제 정원 박람회’를 개최함.
- 람사르 협약에 등록된 연안 습지가 있음.

- ① 강릉 ② 대전 ③ 순천 ④ 제주

8. 지도의 ‘사헬 지대’에서 발생하는 대표적인 자연재해로 가장 적절한 것은?



- ① 태풍 ② 폭설  
③ 홍수 ④ 사막화

9. 다음과 같은 제도를 시행하는 목적으로 가장 적절한 것은?

- 사법권을 독립시켜 헌법과 법률, 법관의 양심에 따라 재판이 이루어지도록 보장하고 있다.
- 하나의 사건에 대해 세 번까지 재판을 받을 수 있다.

- ① 기본권의 제한 ② 행정부의 권한 강화  
③ 재판의 공정성 확보 ④ 법률 제정 절차의 간소화

10. 다음 중 ㉠에 들어갈 법은?

학습 주제: ㉠

- 공법의 한 종류이다.
- 한 나라의 최고법이다.
- 국민의 권리와 의무 및 국가의 통치 구조를 규정한다.


- ① 민법 ② 헌법 ③ 형법 ④ 행정법

11. 다음에서 설명하는 기본권으로 가장 적절한 것은?

- 누구든지 정치적·경제적·사회적·문화적 생활의 모든 영역에서 성별, 종교, 사회적 신분 등에 따라 부당하게 차별을 받지 않고 동등하게 대우받을 권리이다.

- ① 사회권 ② 평등권 ③ 청구권 ④ 환경권

12. 그림에서 ‘K씨’의 지위 중 귀속 지위에 해당하는 것은?



13. 다음 중 ㉠에 들어갈 용어는?

규모가 큰 현대 국가에서 모든 국민이 직접 국정을 운영하는 것은 현실적으로 불가능해.



그래서 현대 민주 국가에서는 대부분 ㉠을/를 실시하여 국민의 대표자를 뽑는 대의 민주제를 채택하고 있어.



- ① 선거      ② 소송      ③ 청원      ④ 공청회

14. 다음 헌법 조항의 ㉠에 들어갈 알맞은 말은?

제66조 ① ㉠은/는 국가의 원수이며, 외국에 대하여 국가를 대표한다.  
④ 행정권은 ㉠을/를 수반으로 하는 정부에 속한다.

- ① 대통령      ② 감사원장      ③ 국무총리      ④ 대법원장

15. 다음에서 설명하는 문화 이해 태도는?

○ 자신이 속한 문화는 우수하다고 여기고 다른 문화는 미개하거나 열등하다고 여기는 태도이다.  
○ 자신의 문화를 절대적 기준으로 삼아 다른 문화를 낮게 평가한다.

- ① 문화 사대주의      ② 문화 상대주의  
③ 자문화 중심주의      ④ 극단적 문화 상대주의

16. 다음 중 ㉠에 들어갈 경제 용어는?

○ ㉠은/는 나중에 대가를 지불할 것을 약속하고 현재 돈을 빌릴 수 있는 능력을 말한다.  
○ ㉠을/를 활용하면 당장 현금이 없어도 거래할 수 있고, 현재의 소득보다 더 많은 소비를 할 수 있어 편리하다.

- ① 신용      ② 이윤      ③ 저축      ④ 투자

17. 다음에서 설명하는 나라는?

○ 단군왕검이 건국한 우리 역사상 최초의 나라이다.  
○ 사회 질서를 유지하기 위한 8조의 법이 있었다.

- ① 가야      ② 옥저      ③ 신라      ④ 고조선

18. 다음 중 ㉠에 들어갈 풍습은?

동예에는 다른 부족의 생활권을 침범하면 소, 말 또는 노비로 갚게 하는 ㉠(이)라는 풍습이 있었다.

- ① 책화      ② 순장      ③ 팔관회      ④ 서옥제

19. 다음에서 설명하는 백제의 왕은?

○ 4세기 백제의 전성기를 이룸.  
○ 고구려를 공격하여 황해도 일부를 차지함.  
○ 마한 지역을 통합하고 왕위 부자 상속을 확립함.

- ① 광해군      ② 공민왕      ③ 신문왕      ④ 근초고왕

20. 다음 중 ㉠에 들어갈 정책은?

고려 광종은 ㉠을 실시하여 호족이 불법으로 차지한 노비를 양인으로 해방시켜 호족 세력을 약화시키려 하였다.

- ① 호패법      ② 대동법      ③ 과전법      ④ 노비안검법

21. 다음 중 ㉠에 들어갈 내용으로 가장 적절한 것은?

〈발해의 발전 과정〉  
○ 고구려 유민 대조영이 건국함.  
○ 무왕 때 당의 산둥 지방을 공격함.  
○ 선왕 때 ㉠

- ① 경복궁을 중건함.      ② 평양으로 천도함.  
③ 해동성국이라 불림.      ④ 교정도감을 설치함.

22. 다음에서 설명하는 책은?

○ 조선 태조에서 철종까지 25대 472년간의 역사적 사실을 기록한 책이다.  
○ 1997년 유네스코 세계기록유산으로 등록되었다.

- ① 발해고      ② 삼국사기  
③ 조선왕조실록      ④ 동국문헌비고

23. 다음과 같은 업적을 남긴 조선의 왕은?

○ 강우량을 측정하기 위해 측우기를 제작함.  
○ 독창적이고 과학적인 원리로 훈민정음을 창제함.

- ① 태종      ② 세종      ③ 성종      ④ 숙종

24. 다음에서 설명하는 일제 강점기의 민족 운동은?

○ 1929년 한·일 학생 간의 충돌로 시작되었다.  
○ 민족 차별 중지와 식민지 차별 교육 철폐를 요구하는 대규모 시위가 전국적으로 확산되었다.

- ① 흥경래의 난      ② 물산 장려 운동  
③ 임술 농민 봉기      ④ 광주 학생 항일 운동

25. 다음 사실이 원인이 되어 일어난 사건은?

1960년 3월 15일에 치러진 정·부통령 선거에서 이승만 정부는 선거에서 승리하기 위해 대대적인 부정을 저질렀다.

- ① 정미의병      ② 4·19 혁명  
③ 3·1 운동      ④ 새마을 운동